

LENGUA, MATEMÁTICAS y SOCIALES 2º P Semana 3ª Soluciones

LENGUA

LUNES, 30 MARZO

2 Escribe **S** (singular) y **P** (plural), según corresponda.

prima

cometas

caballos

pasteles

abuelas

cuadro

piezas

hoja

raíces

MARTES, 31 MARZO

3 Lee y rodea las palabras que tienen **ca, co, cu, que** o **qui**.

Enrique y Carmen preparan una succulenta comida.

Él hace sopa, y ella, unas empanadillas de queso

Su amigo Pedro trae quince pasteles para el postre.



4 Escribe las palabras que has rodeado.

ca - co - cu

Carmen

suculenta

comida

que - qui

Enrique

queso

quince

MIÉRCOLES, 1 de ABRIL


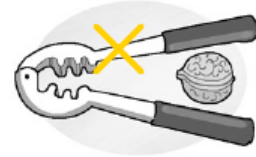
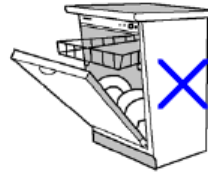
1 Completa las palabras compuestas y únelas con el dibujo que corresponda.

abre latas ✗

casca nueces ✗

lava vajillas ✗

rasca cielos ✗



JUEVES, 2 de ABRIL

5 Completa la tabla.

Singular	Plural
cuaderno	<u>cuadernos</u>
<u>nube</u>	nubes
zapatilla	<u>zapatillas</u>
<u>ordenador</u>	ordenadores

MATEMÁTICAS

LUNES, 30 MARZO

$$\begin{array}{r} 179 \\ 615 \\ +150 \\ \hline 944 \end{array}$$
$$\begin{array}{r} 988 \\ 253 \\ +790 \\ \hline 2031 \end{array}$$
$$\begin{array}{r} 598 \\ 221 \\ +452 \\ \hline 1271 \end{array}$$
$$\begin{array}{r} 935 \\ 231 \\ +311 \\ \hline 1477 \end{array}$$
$$\begin{array}{r} 844 \\ 371 \\ +696 \\ \hline 1911 \end{array}$$
$$\begin{array}{r} 862 \\ 840 \\ +366 \\ \hline 2068 \end{array}$$
$$\begin{array}{r} 964 \\ 264 \\ +723 \\ \hline 1951 \end{array}$$

$$\begin{array}{r} 553 \\ -167 \\ \hline 386 \end{array}$$
$$\begin{array}{r} 494 \\ -304 \\ \hline 190 \end{array}$$
$$\begin{array}{r} 619 \\ -527 \\ \hline 92 \end{array}$$
$$\begin{array}{r} 932 \\ -270 \\ \hline 662 \end{array}$$
$$\begin{array}{r} 573 \\ -449 \\ \hline 124 \end{array}$$
$$\begin{array}{r} 866 \\ -499 \\ \hline 367 \end{array}$$
$$\begin{array}{r} 543 \\ -465 \\ \hline 78 \end{array}$$

Libro pág 142: 16.

16 Lee y resuelve.


Alberto ha ganado 5 puntos jugando a las cartas y su hermana ha ganado el doble. ¿Cuántos puntos ha ganado su hermana?

Alberto ha ganado .

Su hermana, el .

$$\boxed{5} \times \boxed{2} = \boxed{10}$$

Ha ganado .



No olvides que el doble además de multiplicar por 2 también puedes hacerlo sumando el número 2 veces: **$5 + 5 = 10$**

MIÉRCOLES, 1 de ABRIL

$$\begin{array}{r} 671 \\ 112 \\ +254 \\ \hline 1037 \end{array}$$
$$\begin{array}{r} 280 \\ 486 \\ +320 \\ \hline 1086 \end{array}$$
$$\begin{array}{r} 919 \\ 153 \\ +837 \\ \hline 1909 \end{array}$$
$$\begin{array}{r} 642 \\ 114 \\ +183 \\ \hline 939 \end{array}$$
$$\begin{array}{r} 396 \\ 410 \\ +222 \\ \hline 1028 \end{array}$$
$$\begin{array}{r} 374 \\ 166 \\ +337 \\ \hline 877 \end{array}$$
$$\begin{array}{r} 530 \\ 821 \\ +431 \\ \hline 1782 \end{array}$$

$$\begin{array}{r} 652 \\ -542 \\ \hline 110 \end{array}$$
$$\begin{array}{r} 628 \\ -155 \\ \hline 473 \end{array}$$
$$\begin{array}{r} 644 \\ -528 \\ \hline 116 \end{array}$$
$$\begin{array}{r} 242 \\ -165 \\ \hline 77 \end{array}$$
$$\begin{array}{r} 966 \\ -856 \\ \hline 110 \end{array}$$
$$\begin{array}{r} 684 \\ -161 \\ \hline 523 \end{array}$$
$$\begin{array}{r} 830 \\ -705 \\ \hline 125 \end{array}$$

Libro pág 143: 21 y 22.


21 Escribe la oración de forma correcta.

Dos litros tienen ~~ocho~~ medios litros.

Dos litros tienen cuatro medios litros.

22 Sigue el camino que se indica para no mojarte.

2 piedras derecha.
3 piedras arriba.
5 piedras izquierda.
2 piedras abajo.
1 piedra derecha.
2 piedras abajo.
5 piedras derecha.




JUEVES, 2 de ABRIL

$$\begin{array}{r} 458 \\ 285 \\ +274 \\ \hline 1017 \end{array} \quad \begin{array}{r} 769 \\ 176 \\ +484 \\ \hline 1429 \end{array} \quad \begin{array}{r} 364 \\ 410 \\ +334 \\ \hline 1108 \end{array} \quad \begin{array}{r} 824 \\ 922 \\ +355 \\ \hline 2101 \end{array} \quad \begin{array}{r} 637 \\ 132 \\ +541 \\ \hline 1310 \end{array} \quad \begin{array}{r} 172 \\ 310 \\ +452 \\ \hline 934 \end{array} \quad \begin{array}{r} 846 \\ 163 \\ +882 \\ \hline 1891 \end{array}$$

$$\begin{array}{r} 455 \\ -278 \\ \hline 177 \end{array} \quad \begin{array}{r} 926 \\ -341 \\ \hline 585 \end{array} \quad \begin{array}{r} 954 \\ -810 \\ \hline 144 \end{array} \quad \begin{array}{r} 617 \\ -127 \\ \hline 490 \end{array} \quad \begin{array}{r} 837 \\ -504 \\ \hline 333 \end{array} \quad \begin{array}{r} 947 \\ -388 \\ \hline 559 \end{array} \quad \begin{array}{r} 616 \\ -347 \\ \hline 269 \end{array}$$

Libro pág 143: 20.

20 ¿Cuántos kilos pesa la cesta en total? Escribe.



Fruta: 2 kilos y medio. + Arroz: medio kilo. = 1 kilo

Verdura: 1 kilo y medio. + Legumbre: medio kilo. = 1 kilo

La cesta pesa 5 kilos. $2+1+1+1=5$ kilos

Repaso de la tabla:

Tabla 2	X 2	X 7	X 4	X 10	X 6	X 1	X 8	X 5	X 9	X 3
2	4	14	8	20	12	2	16	10	18	6

SOCIALES

MARTES, 31 MARZO

Pág 66: 4

- 4 Escribe los nombres de los planetas en orden, del más cercano al más alejado al Sol.

Mercurio, Venus, Tierra, Marte, Júpiter,
Saturno, Urano y Neptuno.

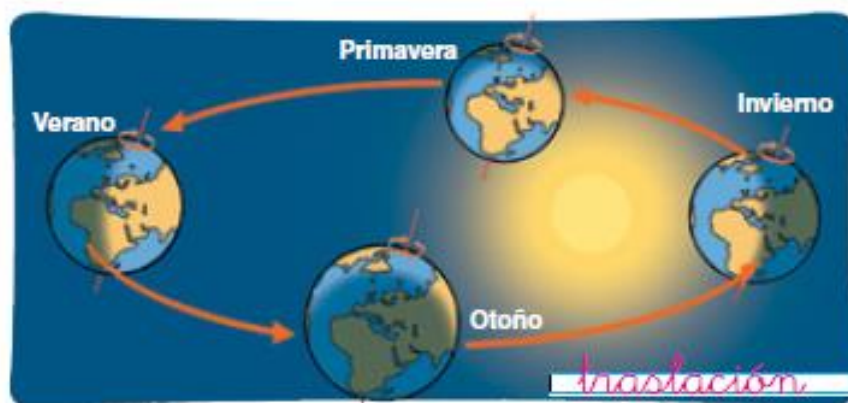
Pág 67: 5

Respuesta libre

MIÉRCOLES, 1 de ABRIL

Pág 67: 6 y 7.

- 6 Escribe el movimiento de la Tierra que corresponda y contesta.



¿Cuánto dura este movimiento? Un año

¿Y el de rotación? 24 horas

- 7 Señala V si es verdadero y F si es falso.

Los planos representan un lugar a menor tamaño que en la realidad.

Los planos siempre representan lugares muy pequeños.

Los planos nos ayudan a orientarnos.

