

LUNES 16:

Pág 43

4 Coloca y opera.

$229 + 282 + 99$

|       |   |   |   |
|-------|---|---|---|
|       | 2 | 2 |   |
|       | 2 | 2 | 9 |
| +     | 2 | 8 | 2 |
| <hr/> |   |   |   |
|       | 6 | 1 | 0 |

$358 + 77 + 86$

|       |   |   |   |
|-------|---|---|---|
|       | 2 | 2 |   |
|       | 3 | 5 | 8 |
| +     |   | 7 | 7 |
| <hr/> |   |   |   |
|       | 5 | 2 | 1 |

$136 + 208 + 92$

|       |   |   |   |
|-------|---|---|---|
|       | 1 | 1 |   |
|       | 1 | 3 | 6 |
| +     | 2 | 0 | 8 |
| <hr/> |   |   |   |
|       | 4 | 3 | 6 |

$512 - 37$

|       |   |   |   |
|-------|---|---|---|
|       | 5 | 1 | 2 |
| -     | 0 | 3 | 7 |
| <hr/> |   |   |   |
|       | 4 | 7 | 5 |

$626 - 418$


|       |   |   |   |
|-------|---|---|---|
|       | 6 | 2 | 6 |
| -     | 4 | 1 | 8 |
| <hr/> |   |   |   |
|       | 2 | 0 | 8 |

$635 - 8$


|       |   |   |   |
|-------|---|---|---|
|       | 6 | 3 | 5 |
| -     | 0 | 0 | 8 |
| <hr/> |   |   |   |
|       | 6 | 2 | 7 |

5 Colorea según el resultado.

$661 \rightarrow$  

$662 \rightarrow$  

$663 \rightarrow$  



6 Une cada resta con su prueba.

$30 - 10 = 20$

$7 + 92 = 97$

$99 - 7 = 92$

$10 + 20 = 30$

7 Calcula mentalmente.

$46 + 10 = 56$

$33 + 10 = 43$

$23 + 10 = 33$

$64 + 10 = 74$

$69 + 10 = 79$

$51 + 10 = 61$

$78 + 10 = 88$

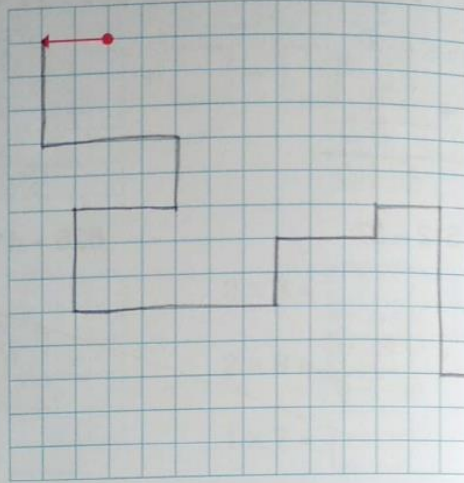
$80 + 10 = 90$

MARTES 17:


Pág 44


1 Dibuja el camino según se indica.


- 2 cuadrados a la izquierda.
- 3 cuadrados hacia abajo.
- 4 cuadrados a la derecha.
- 2 cuadrados hacia abajo.
- 3 cuadrados a la izquierda.
- 3 cuadrados hacia abajo.
- 6 cuadrados a la derecha.
- 2 cuadrados hacia arriba.
- 3 cuadrados a la derecha.
- 1 cuadrado hacia arriba.
- 2 cuadrados a la derecha.
- 5 cuadrados hacia abajo.
- 1 cuadrado a la derecha.




2 Repasa las líneas así:

rectas → 


curvas → 



3 Dibuja estas líneas: Por ejemplo



dos rectas



tres curvas abiertas



dos curvas abiertas

MIÉRCOLES 18:

Pág 139: 5 y 7

5 Colorea el número que se indica.

Tiene la cifra 4 en las decenas → 324 145 403

Tiene la cifra 4 en las centenas → 451 264 742

Tiene la cifra 6 en las unidades → 462 746 674

Tiene la cifra 6 en las centenas → 496 694 468

7 Escribe el ordinal que corresponde:

15.º → décimo quinto

20.º → vigésimo

11.º → undécimo

octavo → 8.º

cuarto → 4.º

séptimo → 7.º

JUEVES 19

Pág 140: 8

8 Escribe la decena y la centena más próxima.

174 → D 170, C 200

313 → 310, 300

246 → 250, 200

461 → 460, 500

VIERNES 20

Pág 140: 9

9 Completa y comprueba que los resultados son iguales.

$70 + 30 + 20 = 100 + 20 = 120$

$70 + 30 + 20 = 70 + 50 = 120$

$125 + 25 = 150$

$25 + 125 = 150$

LUNES 16:

- 1 Cambia la palabra en azul por la que significa lo mismo.

colorada - menuda - enorme

mariquita **roja** → mariquita colorada

mosca **grande** → mosca enorme

hormiga **pequeña** → hormiga menuda

- 2 Une y escribe oraciones.

Elvira pasea ••••• su nido.

La cigüeña hizo ••••• a su perro.

Elvira pasea a su perro.

La cigüeña hizo su nido.

- 3 Completa con **ca, co, cu, que** o **qui**.

Camila cuando sale del colegio va al parque. Allí le picó un mosquito.

- 4 Completa con **c** o **z**.

pozo

cinco

taza

cisne

cesta

piscina

zueco

manzana

MARTES 17:

**1** Completa con palabras antónimas de las subrayadas.

Si está lleno, no está

Si es blanco, no es

Si no está triste, está

Si parece triste, no está

Si es bajo, no es

**2** Escribe **C** (común) o **P** (propio), según corresponda.

hermana       Córdoba       Tomás       cielo

bosque       Perú       Inés       Madrid

Julia       Guadalquivir       Extremadura       cielo

**3** Rodea de verde los signos de interrogación, y de azul, los de exclamación.  
verde: ¿?      azul: ¡!

- ¿Dónde está Isabel?
- ¡Se fue con Daniel!
- ¿Y Daniel?
- ¡Se fue con Isabel!



MIÉRCOLES 18:

**4** Copia sustituyendo las palabras subrayadas por sus antónimas.



Hoy empiezan las fiestas. Las calles se llenarán y estaremos contentos.

Hoy acaban las fiestas. Las calles se vacián y estaremos tristes.

|  |
|--|
|  |
|  |

**5** Escribe el nombre propio correspondiente a los siguientes nombres comunes.

Cádiz - Cuba - Everest

Montaña:

País:

Ciudad:

Everest

Cuba

Cádiz

**6** Escribe los signos que faltan e indica si son de interrogación o exclamación.

¡ Ay, qué dolor ! → exclamación

¿ Cuándo vamos al cine ? → interrogación

¡ Qué ilusión verte aquí ! → exclamación

¿ Quién ganó la partida ? → interrogación

JUEVES 19:

**1** Completa las oraciones con el diminutivo de las siguientes palabras:

zapatos - gata - casa

Me gusta la  del bosque.

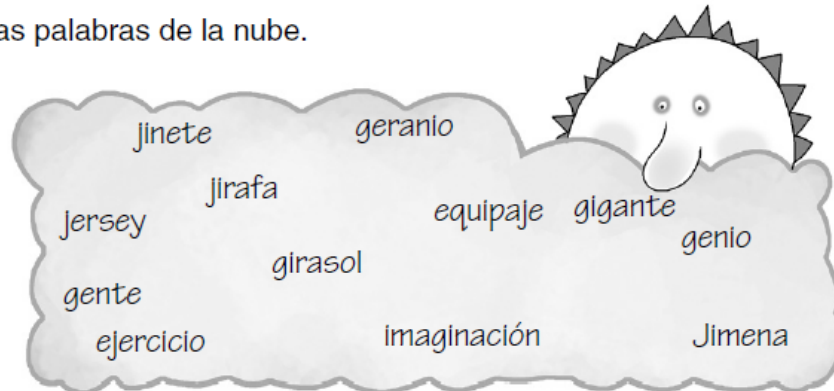
Mi  se llama Pirueta.

Me pongo  con este vestido.

**2** Rodea los artículos de este texto y escríbelos.

En <sup>X</sup> el mes de septiembre, Blasa, <sup>X</sup> la bibliotecaria de mi colegio,  
se compró <sup>X</sup> un abrigo blanco con <sup>X</sup> una flor azul brillante.

**3** Clasifica las palabras de la nube.



Con **ge**:

Con **gi**:

Con **je**:

Con **ji**:

VIERNES 20:

**4** Lee y completa con diminutivos.

Un zapato pequeño es un

Una galleta pequeña es una

Una casa pequeña es una

**5** Completa utilizando tu imaginación. (podéis poner cualquier nombre) POR EJEMPLO

El  Las

La  Un

Los  Una

Unos  Unas

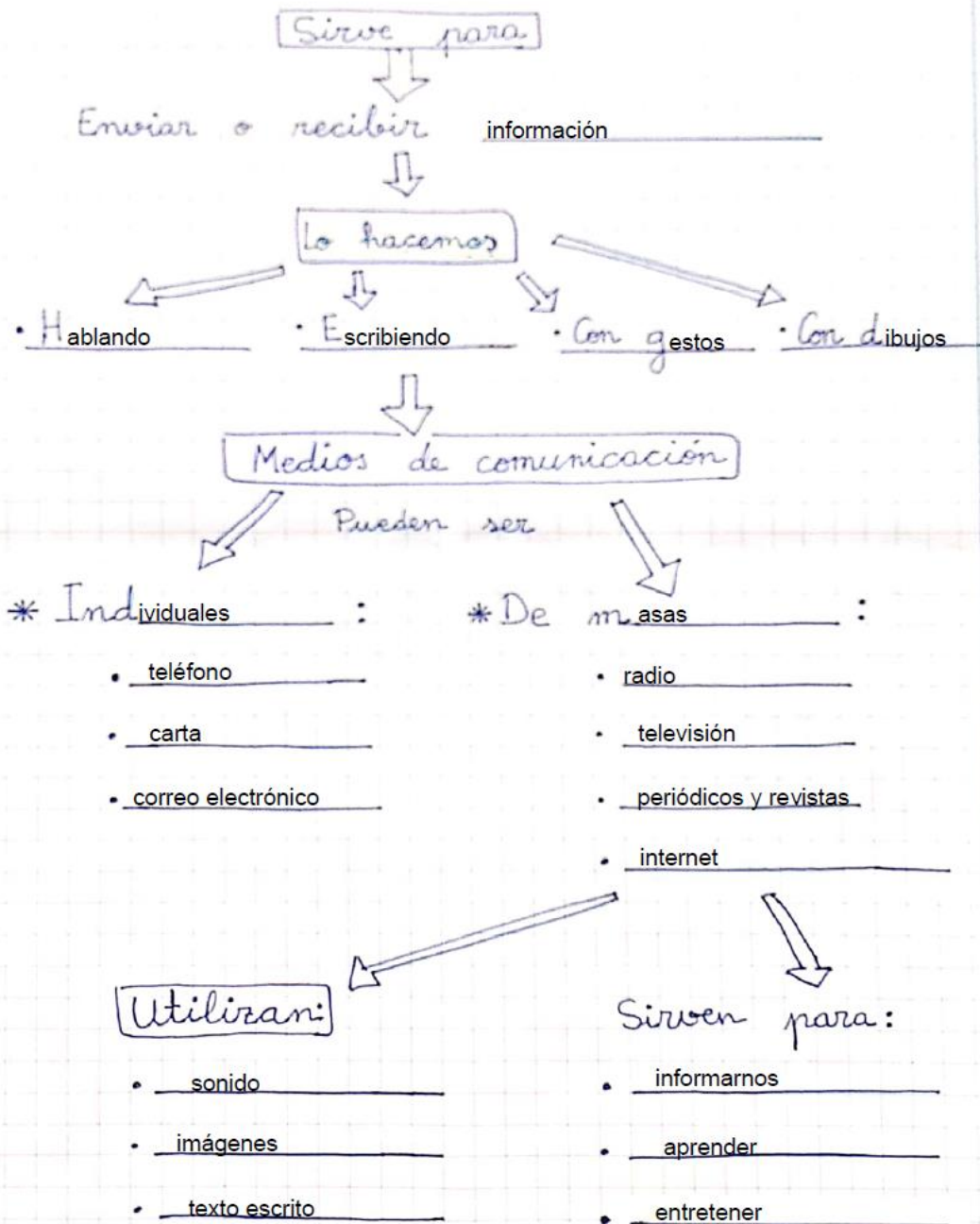
**6** Escribe sus nombres.





MARTES 17:

# LA COMUNICACIÓN



MIÉRCOLES 18: Actividades repaso Tema 4 págs 62 y 63.

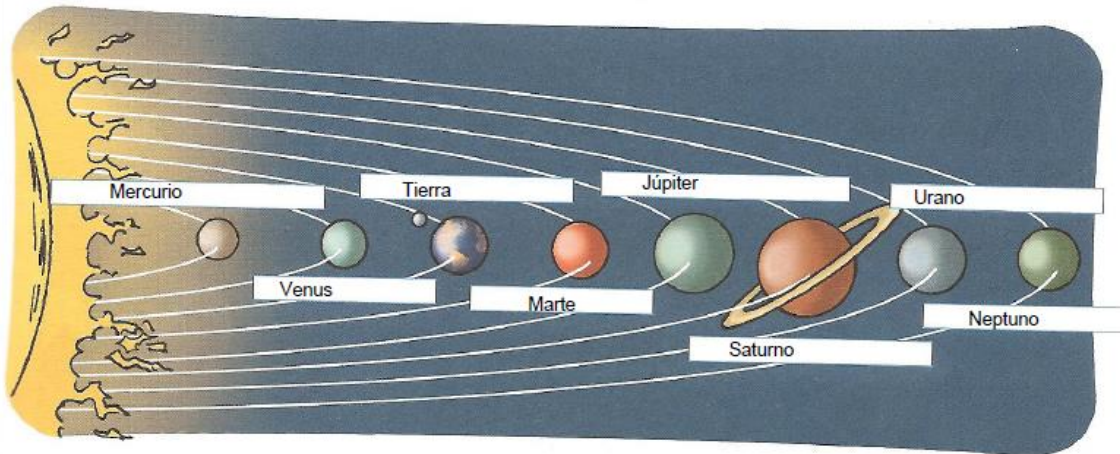
**1** Contesta.

¿Qué es el Sol?

¿Qué es la Luna?

**2** Explica en qué se diferencian los planetas de los satélites.

Escribe los nombres de los planetas y contesta.



¿Dónde crees que hará más calor, en Venus o en Júpiter?

¿Por qué?

Relaciona.



Explica con tus palabras qué es un plano. (Puedes copiar la definición)