

SOLUCIONES SEMANA Nº 8

Hola a tod@s.

Empezamos la corrección de los viernes, corrigiendo yo misma un error que aparecía en el cuadro de las áreas. El error estaba en el área del rombo, (faltaba: 2) .



En el cuadro de perímetros y áreas, el rombo debería haber aparecido así:



Boli rojo... ¡¡¡comenzamos!!!

FORMAS PLANAS Y FORMAS ESPACIALES

(TEMA 10: 1ª parte)

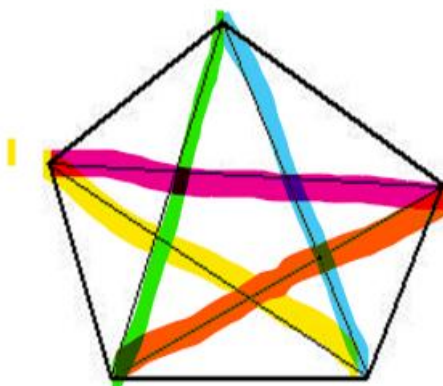
1.- Recordamos lo que ya sabíamos y si hace falta lo estudiamos de nuevo: Polígono y Poliedro

ACTIVIDADES

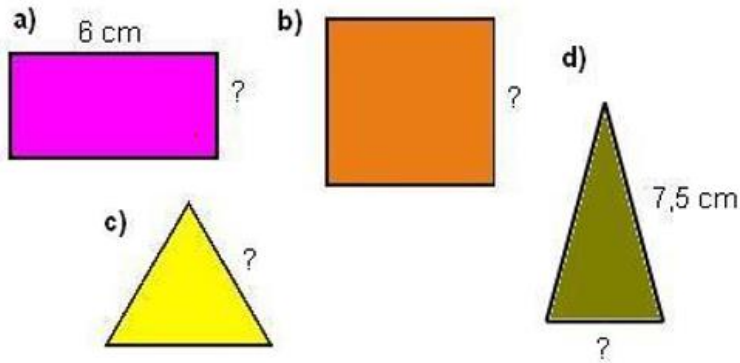
1 Completa las siguientes definiciones.

- A los segmentos que forman un polígono se les llaman **lados**.
- Las diagonales son segmentos que unen dos vértices **no consecutivos**.
- Los **ángulos** son las regiones que forman los lados al cortarse.
- Los vértices **son los puntos donde se cotan los lados**.

2 Traza todas las diagonales que puedas del siguiente polígono.



3.- Todos estos polígono tienen 18 cm de perímetro. Completa en cada caso la medida del lado que falta.



a) $18 - (6 + 6) = 12; 12 : 2 = 6 \text{ cm}$

b) $18 : 4 = 4,5 \text{ cm}$

c) $18 : 3 = 6 \text{ cm}$

d) $18 - (7,5 + 7,5) = 3 \text{ cm}$

2.- Los polígonos regulares e irregulares

ACTIVIDADES

1. Dados los siguientes polígonos



Completa esta tabla

	Número de lados	Nombre	Regular o irregular
Figura A	6	Hexágono	Regular
Figura B	5	Pentágono	Irregular
Figura C	10	Decágono	Irregular
Figura D	6	Hexágono	Irregular
Figura E	4	Trapezio	Irregular

Libro de texto:

página 158: 1 y 2

1.- Que tiene todos sus lados y todos sus ángulos iguales.

2.- Regulares: B, C y E

Irregulares: A y D

y página 159: 7 y 10

7.- A) Perímetro= $N^{\circ} \times L = 5 \times 3 = 15 \text{ cm}$

B) Perímetro= $N^{\circ} \times L = 6 \times 2,5 = 15 \text{ cm}$

C) Perímetro= $N^{\circ} \times L = 8 \times 1,25 = 10 \text{ cm}$

10.- A = 120°

B = 90°

C = 60°

*(Ya sabéis que los ángulos no llevan la rayita debajo del $^{\circ}$, pero no deja escribirlo de manera correcta)

3.- Tipos de triángulos 4.- Los cuadriláteros

ACTIVIDADES

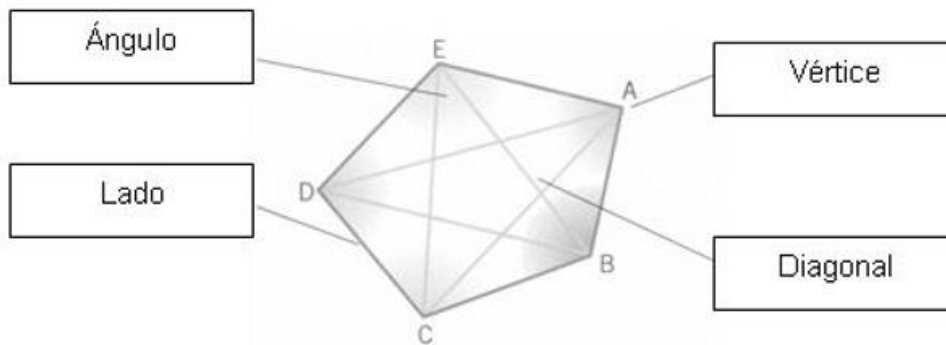
1 Completa estas frases:

- Los cuadriláteros que no tienen ningún lado paralelo se llaman **trapezoides**.
- Los cuadriláteros que tienen dos parejas de lados paralelos son los **paralelogramos**.
- Los cuadriláteros que solo tienen los 2 lados paralelos son los **trapeacios**.

2 Completa las siguientes frases:

- Un triángulo es un polígono de **3** lados.
- Un **cuadrilátero** es un polígono de 4 lados.
- Los polígonos de 5 lados se llaman **pentágonos**.
- El hexágono es un polígono de **6** lados.
- Un heptágono tiene **7** lados.
- Los polígonos de 8 lados se llaman **octógonos**

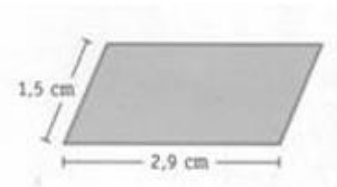
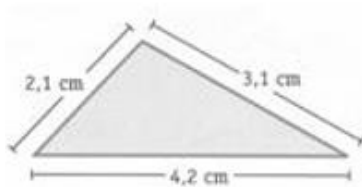
Escribe el nombre adecuado en cada recuadro.



4.- Relaciona:

- Tiene 4 lados iguales y 4 ángulos iguales. **Romboide**
- Tiene 4 lados iguales y 2 pares de ángulos iguales entre sí. **Rectángulo**
- Tiene 2 pares de lados iguales entre sí y 4 ángulos iguales. **Rombo**
- Tiene 2 pares de lados y 2 pares de ángulos iguales entre sí. **Cuadrado**

5.- Calcula el perímetro de las siguientes figuras:



Perímetro de la figura 1 = $2,1 + 3,1 + 4,2 = 9,4$ cm

Perímetro de la figura 2 = $8 \times 1 = 8$ cm

Perímetro de la figura 3 = $(2 \times 1,5) + (2 \times 2,9) = 3 + 5,8 = 8,8$ cm

6.- Una parcela tiene forma de hexágono regular de 72 metros de lado. ¿Cuántos metros de valla hay que poner para dejarla totalmente cerrada?

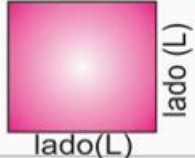

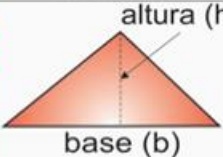
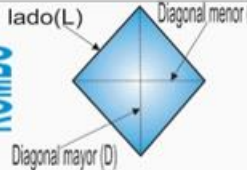

Para dejar totalmente cerrada la parcela hay que poner $6 \times 72 = 432$ metros de valla

7.- Para rodear un corral de gallinas que tiene forma de pentágono regular se han necesitado 140 metros de valla. ¿Cuánto mide el lado del pentágono?

El lado del pentágono medirá: $140 : 5 = 28$ metros.

5.- Área del cuadrado, rectángulo, triángulo, rombo y romboide

¡¡¡Ojo a la corrección!!!

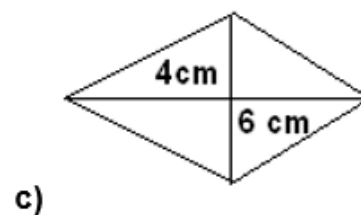
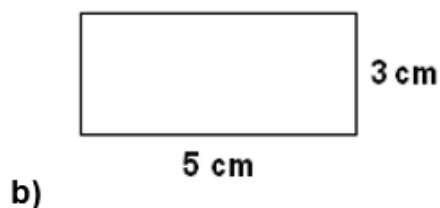
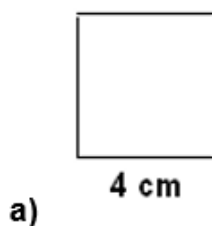
CUADRADO  lado(L)	ÁREA $A = L \times L$	PERÍMETRO $P = L + L + L + L$
RECTÁNGULO  base (b) altura (h)	ÁREA $A = b \times h$	PERÍMETRO $P = b + b + h + h$
TRIÁNGULO  base (b) altura (h)	ÁREA $A = \frac{b \times h}{2}$	PERÍMETRO $P = L + L + L$
ROMBO  lado(L) Diagonal menor (d) Diagonal mayor (D)	ÁREA $A = \frac{D \times d}{2}$	PERÍMETRO $P = L + L + L + L$
ROMBOIDE  base (b) altura (h)	ÁREA $A = b \times h$	PERÍMETRO $P = b + b + h + h$

ACTIVIDADES

1.- Relaciona cada figura con su área:

Paralelogramo	Área
Cuadrado	Base x Altura
Rombo	Lado x Lado
Rectángulo	Base x Altura
Romboide	(Diagonal mayor x Diagonal menor) : 2

2.- ¿Cuál de estos paralelogramos tiene mayor superficie?



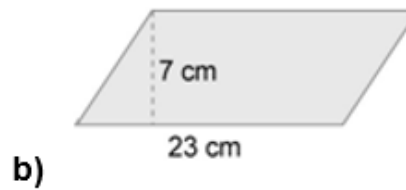
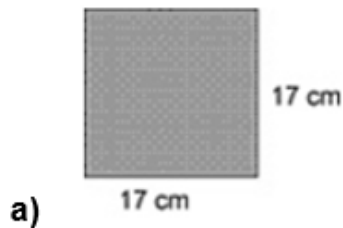
Área = $3 \times 3 = 9 \text{ cm}^2$

Área = $5 \times 3 = 15 \text{ cm}^2$

Área = $(6 \times 4) : 2 = 12 \text{ cm}^2$

El paralelogramo que tiene mayor superficie es el rectángulo (apartado b)

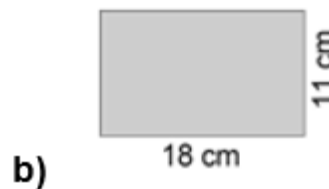
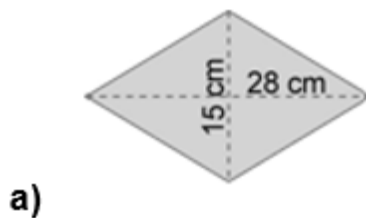
3.- Calcula el área de estos paralelogramos:



Área = $l \times l = 17 \times 17 = 289 \text{ cm}^2$

Área = $b \times h = 23 \times 7 = 161 \text{ cm}^2$

4.- Y la de éstos



Área = $(D \times d) : 2 = (28 \times 15) : 2 = 210 \text{ cm}^2$

Área = $b \times h = 18 \times 11 = 198 \text{ cm}^2$

5.- Se sabe que una finca rectangular mide de largo 50 m. ¿Podrías calcular con este dato el área? ¿Y si la finca fuera cuadrada? Explica la razón.

Si la finca es rectangular, no podríamos calcular el área, ya que necesitaríamos tener un dato más, el ancho.

Si la finca fuera cuadrada, sí podríamos calcular el área, pues el largo es igual que el ancho.

6.- Marina quiere hacer una guirnalda de banderines rectangulares para la fiesta de su cumpleaños. Si cada guirnalda tiene 15 banderines y cada banderín mide 20 cm de largo por 10 cm de ancho, ¿cuánta tela necesitará para hacerlos?

Tela necesaria para hacer 1 banderín = $20 \times 10 = 200 \text{ cm}^2$

Luego para hacer una guirnalda de 15 banderines necesitará $15 \times 200 = 3.000 \text{ cm}^2 = \underline{0,3 \text{ m}^2}$

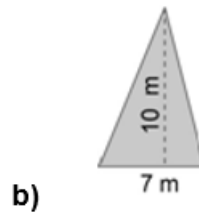
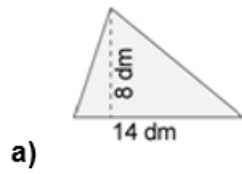
7.- Teo quiere poner moqueta en el suelo de su habitación, que es cuadrada. Si el lado de la habitación mide 4 m y cada metro cuadrado de moqueta cuesta 12 €, ¿cuánto pagará por cubrir todo el suelo de su habitación?

Superficie de la habitación = $4 \times 4 = 16 \text{ m}^2$.

Luego por enmoquetar toda la habitación pagará $12 \times 16 = \underline{192 \text{ €}}$.

ÁREA DE LOS TRIÁNGULOS

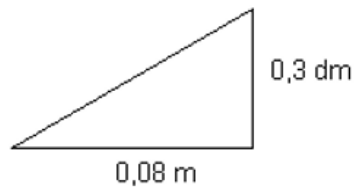
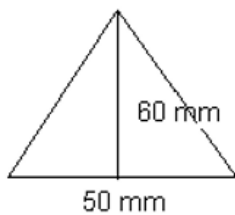
1.- Calcula el área de los siguientes triángulos.



$$A = (b \times h) : 2 = (14 \times 8) : 2 = 56 \text{ dm}^2$$

$$A = (b \times h) : 2 = (7 \times 10) : 2 = 35 \text{ m}^2$$

2.- Calcula el área de estos dos triángulos expresando **el resultado en cm²**.



Base: $50 \text{ mm} = 5 \text{ cm}$

Base: $0,08 \text{ m} = 8 \text{ cm}$

Altura: $60 \text{ mm} = 6 \text{ cm}$

Altura: $0,3 \text{ dm} = 3 \text{ cm}$

Área: $(b \times h) : 2 = (5 \times 6) : 2 = \underline{15 \text{ cm}^2}$

Área: $(b \times h) : 2 = (8 \times 3) : 2 = \underline{12 \text{ cm}^2}$