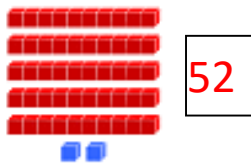



- Escribe el número representado:



52




84



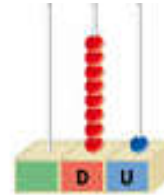
15




70



25




81



83




40



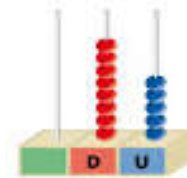
38



20



46



85

- Coloca cada uno de los números representados en el lugar que corresponda:

**PARES**





**IMPARES**

84 > 70 > 52 > 46 > 40 > 38 > 20

15 < 25 < 81 < 83 < 85

Son pares todos los números terminados en 0, 2, 4, 6 y 8

- Descubre con las pistas, cuantos años tienen. ¿63 años, 37 años, 3 años o 30 años?

 mamá	→	Es un número par y tiene 3 decenas.	<b>30</b>
 niña	→	Es un número impar y no tiene decenas.	<b>3</b>
 papá	→	Es un número impar y tiene 3 decenas.	<b>37</b>
 abuelo	→	Es un número impar y tiene 6 decenas.	<b>63</b>

★ Coloca y suma.

$3Dy4U+6D$

D	U
3	4
+	
6	0
-----	
9	4

$5Dy2U+4Dy3U$

D	U
5	2
+	
4	3
-----	
9	5

$2Dy1U+5Dy7U$

D	U
2	1
+	
5	7
-----	
7	8

$8D+1Dy7U$

D	U
8	0
+	
1	7
-----	
9	7

$4Dy3U+4Dy4U$

D	U
4	3
+	
4	4
-----	
8	7

$5Dy3U+3Dy5U$

D	U
5	3
+	
3	5
-----	
8	8

★ Coloca los números como se indica y realiza las operaciones.

$35y54$

D	U
5	4
← Mayor	
← Menor	
+	
3	5
-----	
8	9

$45y33$

D	U
4	5
← Mayor	
← Menor	
+	
3	3
-----	
7	8

$52y34$

D	U
5	2
← Mayor	
← Menor	
+	
3	4
-----	
8	6

$12y64$

D	U
6	4
← Mayor	
← Menor	
+	
1	2
-----	
7	6

★ Lee y resuelve.

- En el autobús iban 38 personas. Si en la primera parada se bajaron 12 personas, ¿cuántas personas quedan en el autobús?



¿El resultado será un número mayor o menor?

Mayor

Menor

Datos:

Iban	38
Se bajaron	12



Calcula.

	3	8	
	-	12	
	2	6	

Solución: Quedan 26 personas.

- En el parque estábamos jugando 25 niños y niñas y vinieron 12 amigos más. ¿Cuántos niños y niñas somos ahora?

Datos:

Estábamos	25
Vinieron	12



Calcula.

	2	5	
	+	12	
	3	7	

Solución: Somos 37 niños.

★ Coloca los números y resta.

$59 - 13$

	D	U
	5	9
-	1	3
<hr/>		
	4	6

$45 - 23$

	D	U
	4	5
-	2	3
<hr/>		
	2	2

$36 - 24$

	D	U
	3	6
-	2	4
<hr/>		
	1	2

$18 - 4$

	D	U
	1	8
-	0	4
<hr/>		
	1	4

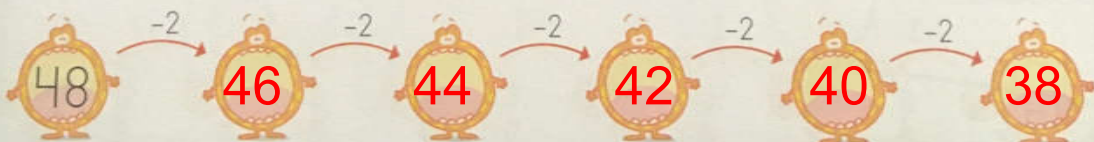
★ Calcula rápidamente.

$10 + 5 = 15$	$5 + 5 = 10$	$10 - 5 = 5$
$20 + 5 = 25$	$15 + 5 = 20$	$20 - 5 = 15$
$30 + 5 = 35$	$25 + 5 = 30$	$30 - 5 = 25$
$40 + 5 = 45$	$35 + 5 = 40$	$40 - 5 = 35$
$50 + 5 = 55$	$45 + 5 = 50$	$50 - 5 = 45$
$60 + 5 = 65$	$55 + 5 = 60$	$60 - 5 = 55$

★ Sigue la serie sumando 5.



★ Sigue la serie.



★ Calcula.

