




• **TAREA SEMANAL RECOMENDABLE**

# Sumas y restas

**1** Calcula y colorea las bombillas según el código:

mayor que 73 →  entre 37 y 73 →  menor que 36 → 

m

$$\begin{array}{r} 38 \\ + 36 \\ \hline 74 \end{array}$$

v

$$\begin{array}{r} 47 \\ + 23 \\ \hline 70 \end{array}$$

a

$$\begin{array}{r} 59 \\ - 47 \\ \hline 12 \end{array}$$

v

$$\begin{array}{r} 45 \\ + 26 \\ \hline 71 \end{array}$$

m

$$\begin{array}{r} 46 \\ + 29 \\ \hline 75 \end{array}$$

a

$$\begin{array}{r} 56 \\ - 32 \\ \hline 24 \end{array}$$

m

$$\begin{array}{r} 59 \\ + 18 \\ \hline 77 \end{array}$$

v

$$\begin{array}{r} 87 \\ - 40 \\ \hline 47 \end{array}$$

**2** Descubre qué número corresponde a cada contenedor.



$$8 + \text{yellow trash can} = \text{blue trash can}$$

$$\text{blue trash can} - 2 = 7$$

$$\text{yellow trash can} + \text{blue trash can} = 10$$

$$\text{green trash can} + \text{yellow trash can} = 6$$

green trash can → 5

yellow trash can → 1

blue trash can → 9

**3** Completa para que las filas y las columnas sumen 16.

8	4	4
1	6	9
7	6	3

2	9	5
7	5	4
7	2	7

**4** Coloca y suma.

$$12 + 35 + 31$$

		1	2
		3	5
	+	3	1
		7	8

$$30 + 7 + 32$$

		3	0
			7
	+	3	2
		6	9

$$31 + 43 + 5$$


		3	1
		4	3
	+		5
		7	9

**5** Resuelve.

¿Cuántas bombillas hay entre los dos símbolos?



39



27

		3	9
	+	2	7
		6	6

Hay **66** bombillas.

**6** Sigue la serie restando 3.



# Resuelvo problemas. Selecciono la operación

## 1 Lee y resuelve.



Si cada uno de los 28 alumnos y alumnas de 1.º A compra una botella solidaria, ¿cuántos alumnos faltan por comprar su botella?

- Escribe los datos y completa.

Hay  alumnos y alumnas de 1.º A.

Hay  botellas solidarias compradas.

- Rodea la operación adecuada y calcula.

Sumar (+)

Restar (-)

		2	8	
		-	1	2
			1	6



Faltan  alumnos y alumnas por comprar su botella.

2 Lee y resuelve.



Con la ayuda de todos los colegios, este año se construirán 7 pozos más que el año pasado. ¿Cuántos pozos se construirán este año?

- Escribe los datos y completa.

El año pasado se construyeron  pozos.

Este año se construirán  pozos .

- Rodea la operación adecuada y calcula.

Sumar (+)

Restar (-)

		3	7	
		+	7	
		-----		
		4	4	



Este año se construirán  .

# REPASO DE LA UNIDAD

- 1 Coloca estos números y escribe los nombres:

86

69

85

D	U
6	9
8	5
8	6

→ sesenta y nueve

→ ochenta y cinco

→ ochenta y seis

- 2 Escribe el número anterior y el posterior.

82

←

83

→

ochenta y cuatro

87

←

ochenta y ocho

→

89

- 3 Escribe el anterior y el posterior de los siguientes números ordinales:

cuarto

←

5.º

→

sexto

octavo

←

9.º

→

décimo

primera

←

2.º

→

tercera

quinto

←

6.º

→

séptimo

segunda

←

3.º

→

cuarto

- TRABAJO OPCIONAL COMPLEMENTARIO página 60, 62 y 64 cuaderno

# Unidad 10

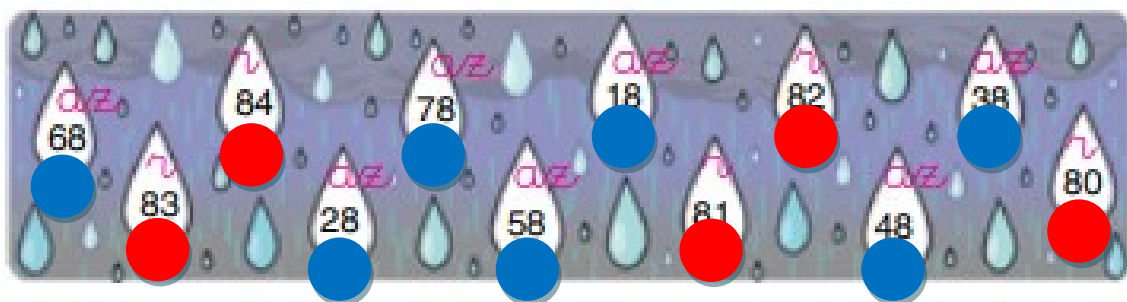
1 Une según corresponda.



2 Colorea así los números que tengan:

la cifra 8 en las unidades: 

la cifra 8 en las decenas: 




3 Cuenta de 2 en 2.

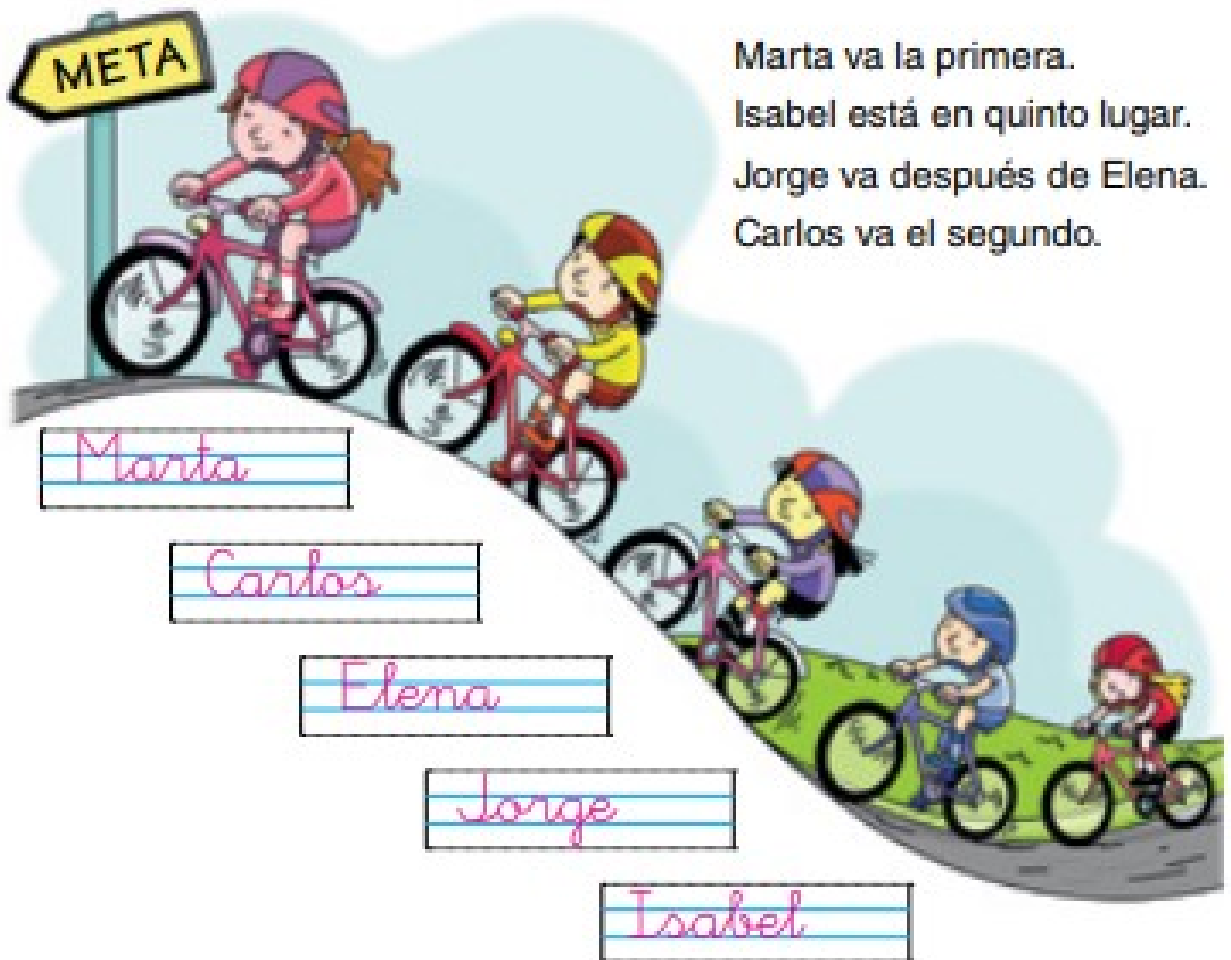


60 *sesenta*





**1** Une.



**2** Escribe los nombres.



**1** Suma y une con su resultado.

$\begin{array}{r} 36 \\ + 29 \\ \hline 65 \end{array}$	$\begin{array}{r} 29 \\ + 59 \\ \hline 88 \end{array}$	$\begin{array}{r} 47 \\ + 34 \\ \hline 81 \end{array}$	$\begin{array}{r} 27 \\ + 47 \\ \hline 74 \end{array}$
			

Arrows connect the results: 65 to 81, 88 to 81, 81 to 65, and 74 to 74.

**2** Resta y colorea en la tabla los resultados.

$\begin{array}{r} 82 \\ - 11 \\ \hline 71 \end{array}$	$\begin{array}{r} 73 \\ - 20 \\ \hline 53 \end{array}$	$\begin{array}{r} 69 \\ - 31 \\ \hline 38 \end{array}$	$\begin{array}{r} 77 \\ - 23 \\ \hline 54 \end{array}$
$\begin{array}{r} 84 \\ - 62 \\ \hline 22 \end{array}$	$\begin{array}{r} 53 \\ - 21 \\ \hline 32 \end{array}$	$\begin{array}{r} 82 \\ - 12 \\ \hline 70 \end{array}$	$\begin{array}{r} 78 \\ - 5 \\ \hline 73 \end{array}$

22	28	53	52	32	36	38	40
84	54	60	73	80	71	29	70

**3** Calcula.

$30 \xrightarrow{+8} 38 \xrightarrow{-2} 36 \xrightarrow{-1} 35 \xrightarrow{+5} 40 \xrightarrow{+6} 46$

64 sesenta y cuatro