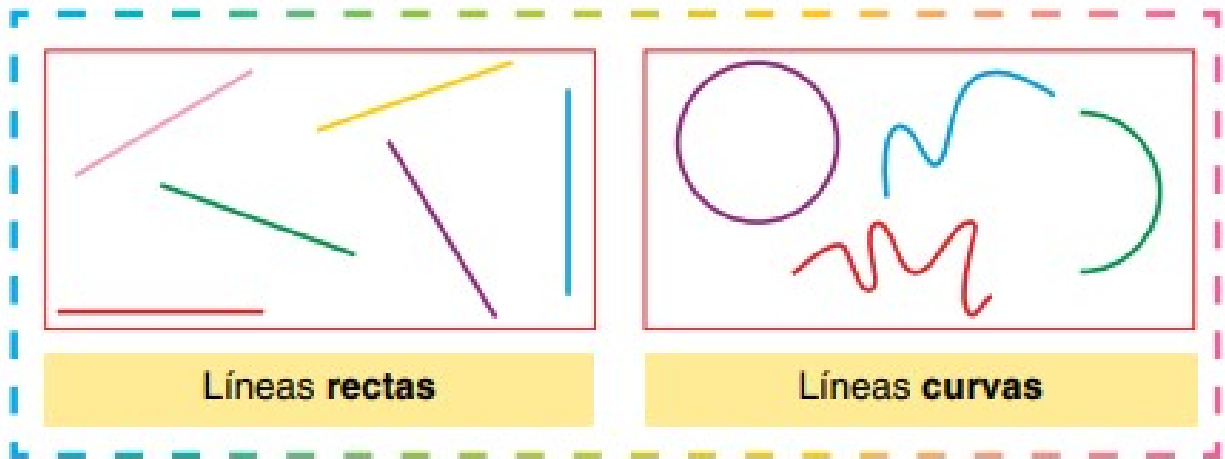


• **TAREA SEMANAL RECOMENDABLE**

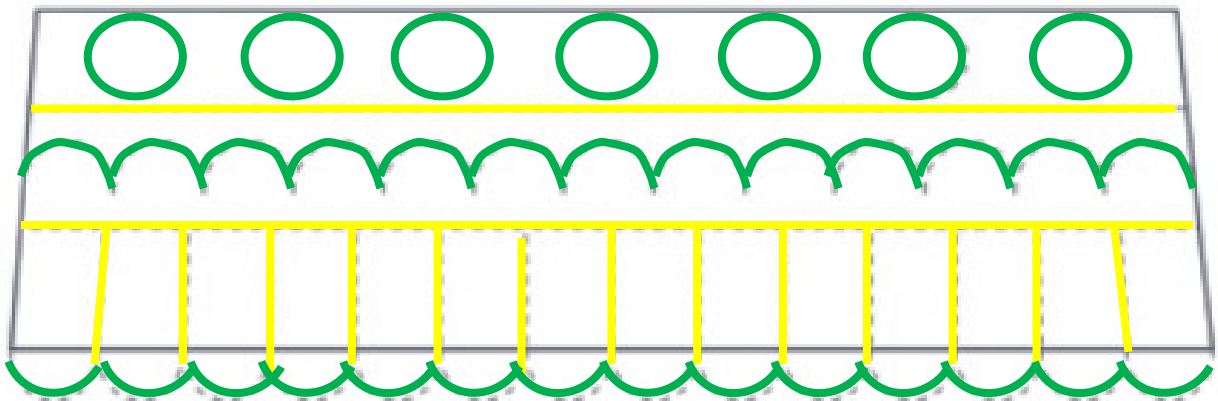
Líneas rectas y curvas



1 Repasa las líneas del toldo siguiendo el código:

curvas → verde

rectas → amarillo



2 Decora cada bolsa de la compra con el tipo de línea indicada.

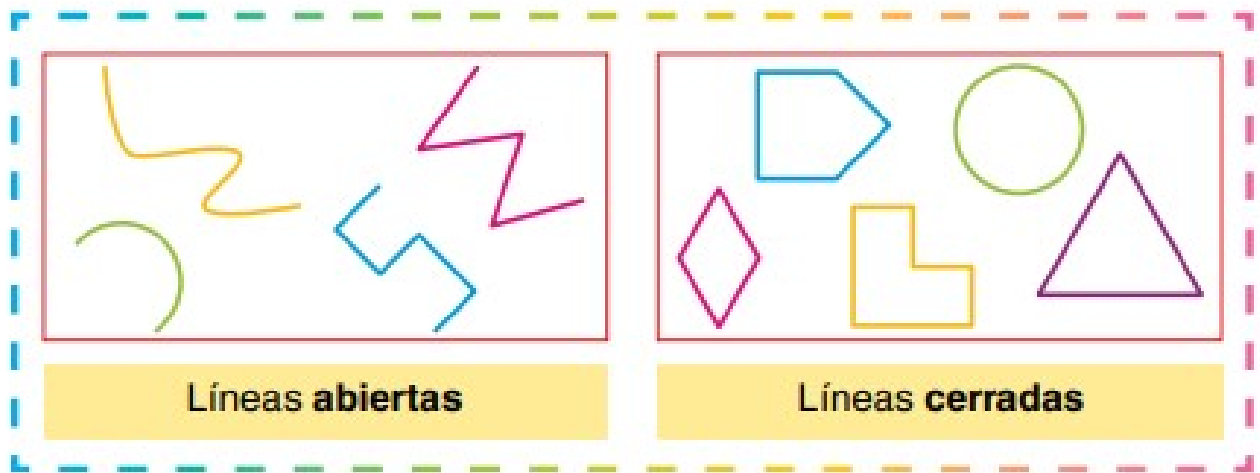
curvas









rectas



Líneas abiertas y cerradas



1 Escribe si son líneas abiertas o cerradas.

		
<i>cerrada</i>	<i>abierta</i>	<i>cerrada</i>
		
<i>abierta</i>	<i>cerrada</i>	<i>cerrada</i>

2 Repasa las líneas de este amanecer:

abiertas → azul

cerradas → roja



4 Calcula y descubre tres formas de cuidar el medio ambiente.



$$\begin{array}{r} 37 \\ + 36 \\ \hline \end{array}$$

U 73

$$\begin{array}{r} 47 \\ + 23 \\ \hline \end{array}$$

R 70

$$\begin{array}{r} 69 \\ - 27 \\ \hline \end{array}$$

D 42

$$\begin{array}{r} 65 \\ + 18 \\ \hline \end{array}$$

A 83

$$\begin{array}{r} 29 \\ + 42 \\ \hline \end{array}$$

C 71

$$\begin{array}{r} 56 \\ - 32 \\ \hline \end{array}$$

E 24

$$\begin{array}{r} 62 \\ + 18 \\ \hline \end{array}$$

L 80

$$\begin{array}{r} 89 \\ - 21 \\ \hline \end{array}$$

T 68

$$\begin{array}{r} 87 \\ - 40 \\ \hline \end{array}$$

I 47

$$\begin{array}{r} 56 \\ + 26 \\ \hline \end{array}$$

Z 82



R E D U C E.

70 24 42 73 71 24

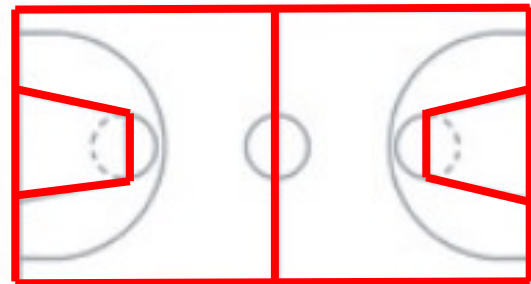
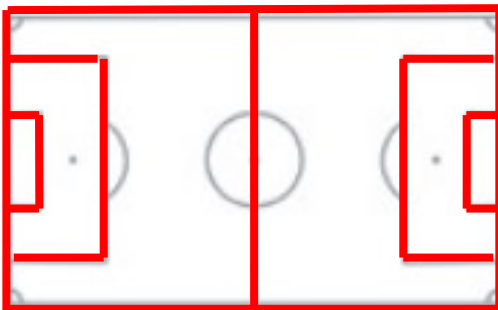
R E U T I L I Z A.

70 24 73 68 47 80 47 82 83

R E C I C L A.

70 24 71 47 71 80 83

5 Repasa las líneas curvas de azul y las rectas de rojo.



6 Dictado de números



73 33 81 84 41 52 83 68 46 89
59 62 85 16 53 82 87 27 80 88

• **Página extra.**

5 Sigue las instrucciones y resuelve.



Estas son las garrafas de agua que se consumen en el colegio en una semana.

L	M	X	J	V
30	24	48	23	41



Calcula las que se bebieron entre el lunes, el martes y el viernes.



¿Cuál es la diferencia entre el día de mayor consumo y el día de menor consumo?



¿Cuántas botellas se bebieron los dos días de mayor consumo?



¿Cuántas botellas menos se bebieron el lunes que el viernes?



$$\begin{array}{r} 30 \\ 24 \\ + 41 \\ \hline 95 \end{array}$$



$$\begin{array}{r} 48 \\ - 23 \\ \hline 25 \end{array}$$



$$\begin{array}{r} 48 \\ + 41 \\ \hline 89 \end{array}$$




$$\begin{array}{r} 41 \\ - 30 \\ \hline 11 \end{array}$$

6 Cálculo mental

$60 + 20 = 80$ 	$20 + 10$ $30 + 60$	$20 + 30$ $20 + 40$	$50 + 20$ $50 + 30$	$70 + 10$ $40 + 20$
--------------------	------------------------	------------------------	------------------------	------------------------

- **TRABAJO OPCIONAL COMPLEMENTARIO** página 61, 63 y 65 cuaderno

4 Rodea los números que tengan más de 5 decenas y escríbelos.



84 ochenta y cuatro

82 ochenta y dos

60 sesenta

88 ochenta y ocho

71 setenta y uno

5 Completa.

80 unidades son 8 decenas.

50 unidades son 5 decenas.

70 unidades son 7 decenas.

60 unidades son 6 decenas.

30 unidades son 3 decenas.

40 unidades son 4 decenas.

6 Escribe estos números donde corresponda:

35 - 18 - 69 - 52 - 87 - 71 - 6 - 24

Mayores que 40 → 69 52 87 71

Menores que 40 → 35 18 6 24

3 Lee y completa.

Victoria vive dos pisos por encima de Luis.

Miriam vive tres pisos por debajo de Luis.

Blanca vive en el piso más alto.

Chema vive entre Victoria y Luis.

Ana vive entre Luis y Rosa.

Olga vive en un piso más alto que David.

David vive entre Olga y Victoria.



4 Coloca y realiza.

$$53 + 28$$

		5	3	
	+	2	8	
		8	1	

$$85 + 2$$

		8	5	
	+		2	
		8	7	

$$47 + 35$$

		4	7	
	+	3	5	
		8	2	

$$85 - 54$$

		8	5	
	-	5	4	
		3	1	

$$78 - 23$$

		7	8	
	-	2	3	
		5	5	

$$49 - 27$$

		4	9	
	-	2	7	
		2	2	

5 Realiza y une los resultados de menor a mayor.

