

• **TAREA SEMANAL RECOMENDABLE**

Sumas y restas

1 **Calcula y colorea las manzanas con resultados entre 68 y 86.**



$$\begin{array}{r} 49 \\ + 33 \\ \hline 82 \end{array}$$



$$\begin{array}{r} 99 \\ - 34 \\ \hline 65 \end{array}$$



$$\begin{array}{r} 59 \\ + 38 \\ \hline 97 \end{array}$$



$$\begin{array}{r} 28 \\ + 56 \\ \hline 84 \end{array}$$



$$\begin{array}{r} 87 \\ - 17 \\ \hline 70 \end{array}$$

2 **Rodea el resultado correcto.**

$32 + 25 \rightarrow 55 - 67 - 57$

$74 - 21 \rightarrow 65 - 53 - 63$

$13 + 37 \rightarrow 53 - 50 - 40$

$56 + 26 \rightarrow 72 - 86 - 82$

$85 - 32 \rightarrow 53 - 65 - 50$

$42 + 18 \rightarrow 50 - 60 - 70$

3 **Lee y resuelve.**



¿Cuántos teléfonos hay en total?



		3	2	
		2	0	
	+		7	
		5	9	

Hay **59** teléfonos en total.

182 **ciento ochenta y dos**

4 Resuelve las operaciones y escribe los resultados siguiendo el orden.

$$\begin{array}{r} 86 \\ - 35 \\ \hline \end{array}$$

9.º 51

$$\begin{array}{r} 39 \\ + 59 \\ \hline \end{array}$$

5.º 98

$$\begin{array}{r} 97 \\ - 30 \\ \hline \end{array}$$

4.º 67

$$\begin{array}{r} 78 \\ - 32 \\ \hline \end{array}$$

3.º 46

$$\begin{array}{r} 55 \\ + 28 \\ \hline \end{array}$$

7.º 83

$$\begin{array}{r} 67 \\ - 35 \\ \hline \end{array}$$

10.º 32

$$\begin{array}{r} 98 \\ - 56 \\ \hline \end{array}$$

2.º 42

$$\begin{array}{r} 43 \\ + 28 \\ \hline \end{array}$$

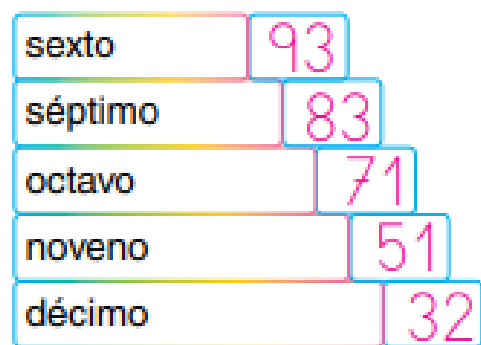
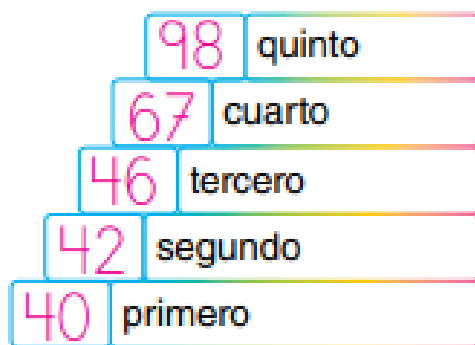
8.º 71

$$\begin{array}{r} 24 \\ + 69 \\ \hline \end{array}$$

6.º 93

$$\begin{array}{r} 70 \\ - 30 \\ \hline \end{array}$$

1.º 40

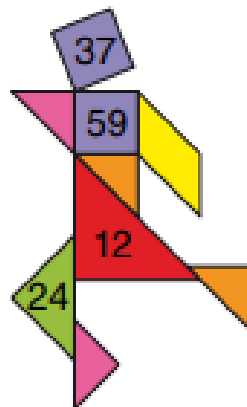


5 Coloca y resuelve dos sumas y dos restas con los números propuestos.

EJEMPLO

D	U
3	7
<hr/>	
4	9

D	U
5	9
<hr/>	
8	3



EJEMPLO

D	U
5	9
<hr/>	
4	7

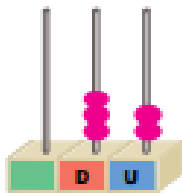
D	U
3	7
<hr/>	
1	3

6 Cálculo mental

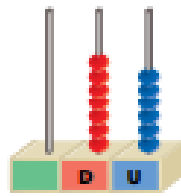
$50 - 20 = 30$	$50 - 30$	$20 - 10$	$40 - 40$	$60 - 20$	$80 - 30$
	$80 - 20$	$70 - 10$	$90 - 50$	$80 - 60$	$50 - 40$

Repaso de números

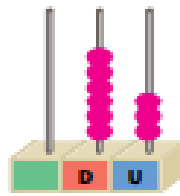
1 Completa.



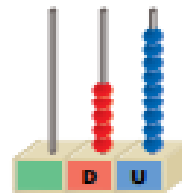
32



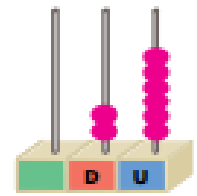
76



63



59



26

2 Fijate en los números de la actividad anterior y escribe.

El menor número con la cifra 6 en las unidades. →

veintiséis

Tiene cinco decenas. →

cincuenta y nueve

La suma de sus cifras es 5. →

treinta y dos

3 Escribe los números.

cincuenta y tres →

53

noventa y seis →

96

treinta y cuatro →

34

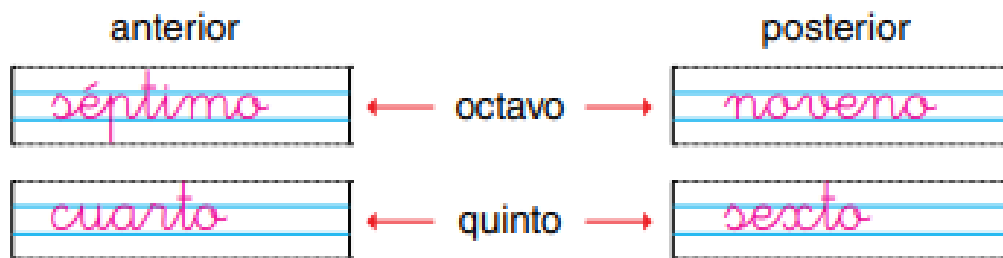
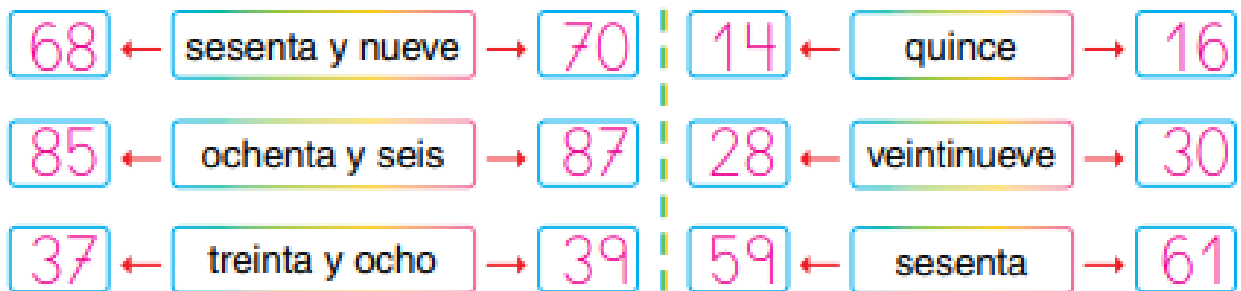
sesenta y nueve →

69

4 Ordena de mayor a menor.



97 > 85 > 74 > 60 > 52 > 47 > 23 > 13

5 Escribe.**6** Escribe el número anterior y el número posterior.**7** Completa.62 → Tiene 6 D y 2 U98 → Tiene 9 D y 8 U35 → Tiene 3 D y 5 U53 → Tiene 5 D y 3 U41 → Tiene 4 D y 1 U78 → Tiene 7 D y 8 U**8** Escribe el signo que corresponda: <, > o =.

12 < 21

84 > 67

93 > 39

65 = 65

47 < 74

59 < 60

9 Dictado de números

62	12	71	27	79	95	64	46	21	53
38	43	93	61	77	82	99	42	86	75

Resuelvo problemas. Aplico todos los pasos

1 Lee y resuelve.



La profesora nos ha recomendado una página de Internet para mejorar el cálculo mental. Inés ha conseguido 65 puntos, y Mario, 97. ¿Cuántos puntos más ha conseguido Mario?

¿Cuántos más que Irene?

• Escribe los datos.

Inés 65 puntos.

Mario 97 puntos.

• Realiza la operación.

		9	7	
		-	6	5
			3	2



• Escribe la solución.

Ha conseguido 32 puntos más.

2 Lee y resuelve.



Alejandra está completando un puzle del sistema solar. El puzle tiene 89 piezas y ya ha colocado 53. ¿Cuántas piezas le faltan para terminarlo?



- Escribe los datos.

Tiene	89	piezas.
Ha colocado	53	piezas.

- Realiza la operación.

		8	9	
		-	5	3
			3	6




- Escribe la solución.

Faltan	36	piezas.
--------	----	---------

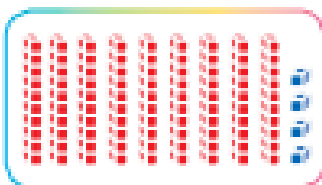
- **TRABAJO OPCIONAL COMPLEMENTARIO** páginas 68 y 72 cuaderno

Unidad 1

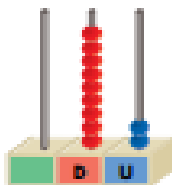
1 Escribe con cifras y con letras los números representados.



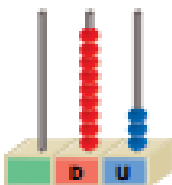
90 *noventa*



94 *noventa y cuatro*

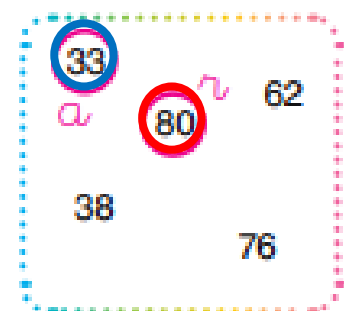
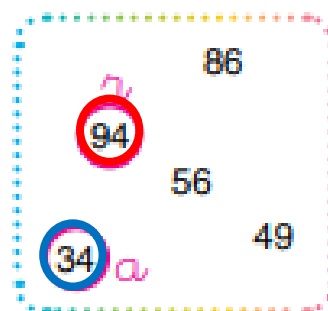
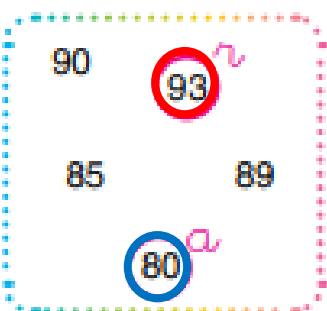


92 *noventa y dos*



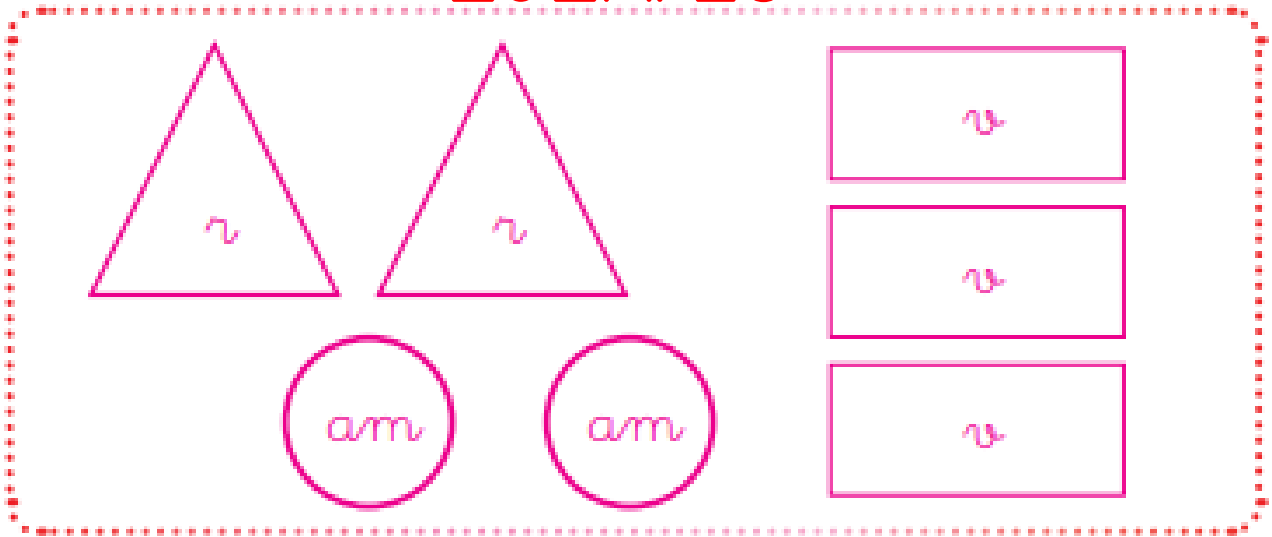
93 *noventa y tres*

2 Rodea de rojo el número mayor, y de azul, el menor.



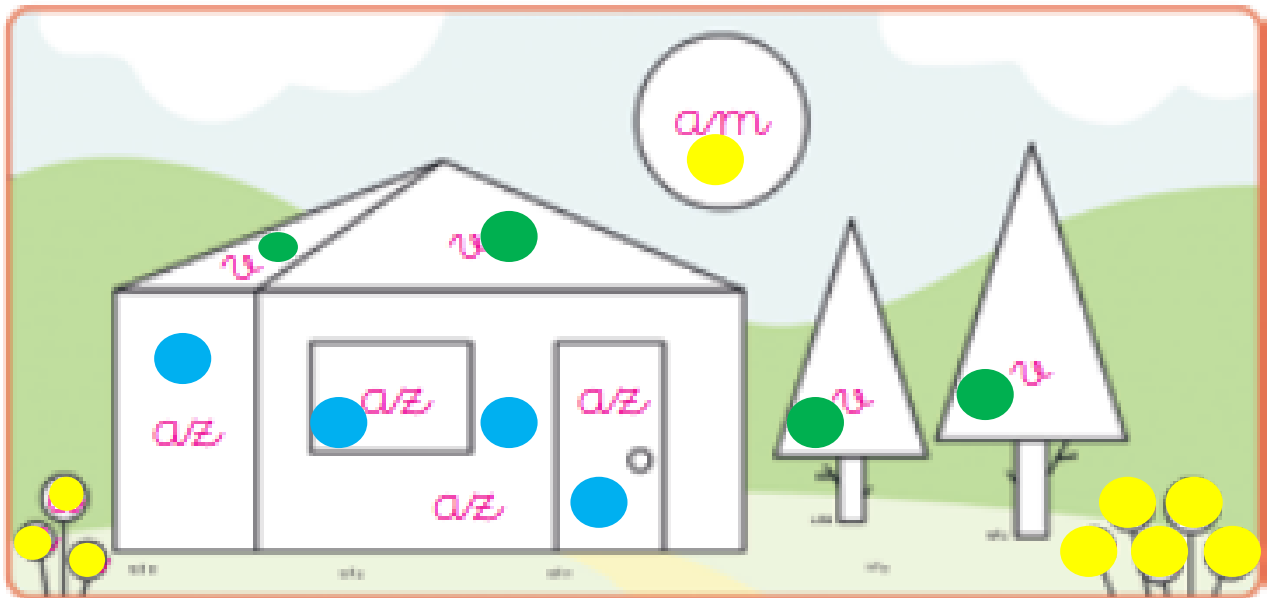
- 1** Dibuja dos triángulos rojos, tres rectángulos verdes y dos círculos amarillos.

EJEMPLO



- 2** Colorea así:

triángulos →  círculos →  rectángulos → 



- 3** Continúa la serie.

