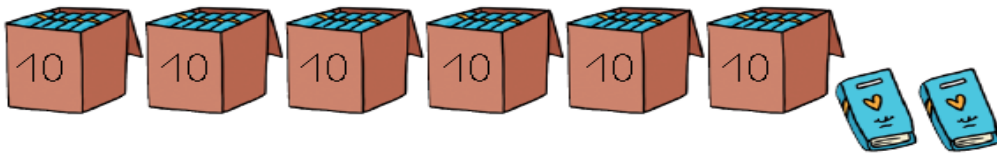
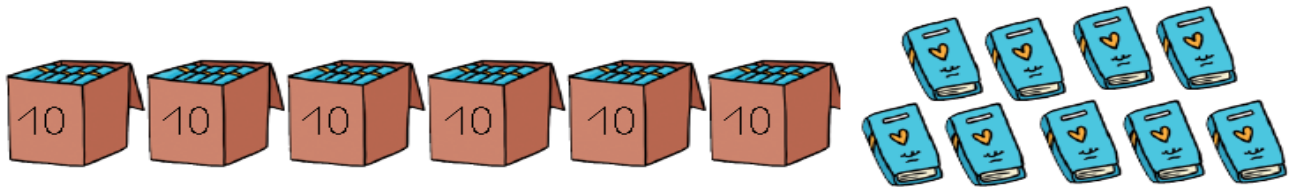


1) ¿Cuántos libros hay? Completa y escribe.



$60 + 2 \rightarrow$  sesenta y dos

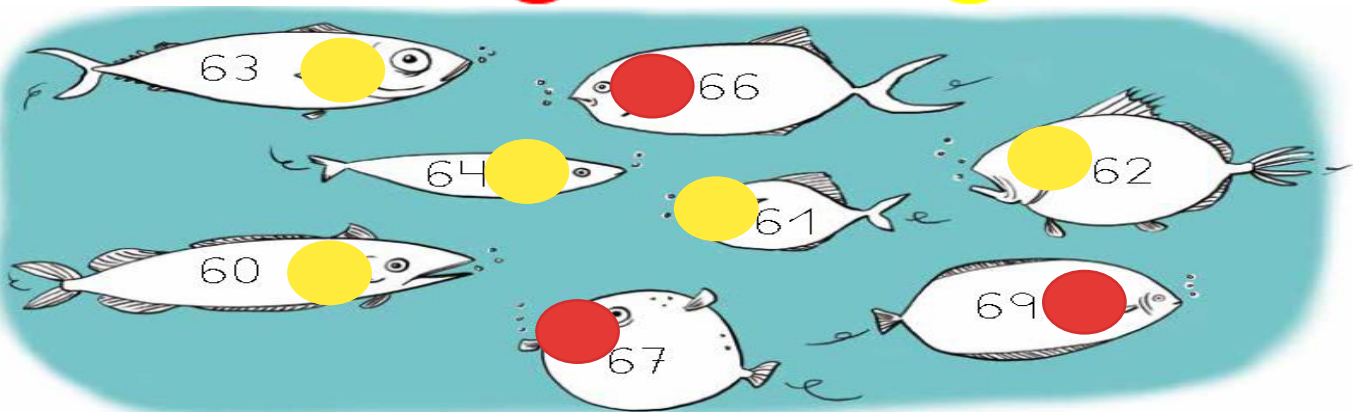


$60 + 9 \rightarrow$  sesenta y nueve

2) Colorea los peces así, según el número que tienen:

● Mayores que 65

● Menores que 65



3) Escribe el número anterior y posterior en cada caso.

59 60 61

67 68 69

62 63 64

58 59 60

60 61 62

65 66 67

4) Rodea los números en los que la cifra 2 valga 20 unidades.



5) Coloca y resuelve:

$15 + 12$

	D	U
	1	5
+	1	2
<hr/>		
	2	7

$22 + 23$

	D	U
	2	2
+	2	3
<hr/>		
	4	5

$30 + 26$

	D	U
	3	0
+	2	6
<hr/>		
	5	6

6) Suma agrupando primero los números que suman 10.

$$\begin{array}{r} 2 \\ 6 \\ + 8 \\ \hline \end{array}$$

Diagram showing 2 and 8 grouped to make 10.

**16**

$$\begin{array}{r} 5 \\ 5 \\ + 3 \\ \hline \end{array}$$

Diagram showing 5 and 5 grouped to make 10.

**13**

$$\begin{array}{r} 9 \\ 3 \\ + 7 \\ \hline \end{array}$$

Diagram showing 3 and 7 grouped to make 10.

**19**

7) Coloca y resuelve:

$68 - 24$ 

	D	U
	6	8
-	2	4
<hr/>		
	4	4

$97 - 45$ 

	D	U
	9	7
-	4	5
<hr/>		
	5	2

$37 - 16$ 

	D	U
	3	7
-	1	6
<hr/>		
	2	1

$85 - 12$ 

	D	U
	8	5
-	1	2
<hr/>		
	7	3

8) Hugo tiene 35 canicas y su madre le ha comprado 12 más.  
¿Cuántas tiene en total?

	D	U
	3	5
+	1	2
	4	8

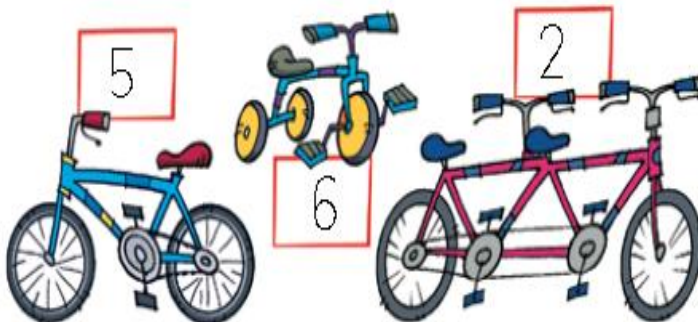
DATOS

Tiene **35 canicas**

Le han comprado **12 canicas**

Tiene 48 canicas en total.

9) ¿Cuántas bicicletas hay en total?



	5
	6
+	2
	13

10) En la biblioteca hay 98 libros, pero se han llevado 34 libros para leer. ¿Cuántos quedan ahora en la biblioteca?

	D	U
	9	8
-	3	4
	6	4

DATOS

Hay **98 libros**

Se han llevado **34 libros**

Quedan 64 libros.

11) Señala V si es verdadero o F si es falso.

	V	F
Si hoy es martes mañana será miércoles.	X	
Si ayer fue jueves hoy será lunes.		X
Si hoy es sábado mañana será domingo.	X	
Si mañana será martes hoy es viernes.		X

12) Ordena estos meses en el orden en que aparecen en el calendario:

diciembre octubre noviembre

octubre	noviembre	diciembre
---------	-----------	-----------

julio mayo junio

mayo	junio	julio
------	-------	-------

agosto octubre septiembre

agosto	septiembre	octubre
--------	------------	---------

13) Responde a las preguntas.

¿Qué día está entre el lunes y el miércoles?

martes

¿Qué mes está entre julio y septiembre?

agosto

¿Qué días de la semana no vas al colegio?

sábado y domingo

14) Observa la agenda de la semana de Lucía y responde a las preguntas.

AGENDA SEMANAL	
lunes	Música
martes	Veterinario
miércoles	Música
jueves	Natación
viernes	Música
sábado	Cumpleaños
domingo	Excursión

Si Lucía ha ido hoy a natación, ¿qué actividad tuvo ayer?

Ayer tuvo música.

Si ayer tuvo un cumpleaños, ¿qué va a hacer hoy?

Ir de excursión.

Si hoy ha ido al veterinario, ¿qué actividad tendrá mañana?

Mañana tendrá música.

¿Qué día va de excursión?

El domingo.

15) Calcula mentalmente:

1+0	2+0	3+0	4+0	5+0	6+0	7+0	8+0	9+0	10+0
1+1	2+1	3+1	4+1	5+1	6+1	7+1	8+1	9+1	10+1
1+2	2+2	3+2	4+2	5+2	6+2	7+2	8+2	9+2	10+2
1+3	2+3	3+3	4+3	5+3	6+3	7+3	8+3	9+3	10+3
1+5	2+5	3+5	4+5	5+5	6+5	7+5	8+5	9+5	10+5