

# Repaso de números

1 Escribe siguiendo las instrucciones.



Los números que tienen la cifra 5 en las decenas de menor a mayor.

50 51 52 53 54 55 56 57 58 59



Los números que tienen la cifra 6 en las decenas de mayor a menor.


69 68 67 66 65 64 63 62 61 60

2 Escribe los números y completa.



59

$$50 + 9$$



72

$$70 + 2$$



65

$$60 + 5$$

3 Completa.

78 → 7 D y 8 U

16 → 1 D y 6 U

27 → 2 D y 7 U

39 → 3 D y 9 U

56 → 5 D y 6 U

62 → 6 D y 2 U

**4** Averigua qué números son siguiendo las pistas.

Tengo 5 D. → cincuenta

Soy  $20 + 9$ . → veintinueve

Soy 3 D mayor que 15. → cuarenta y cinco

3 U menos que 65. → sesenta y dos

**5** Ordena los números de menor a mayor.

47
63
13
74
29
38
31

13 < 29 < 31 < 38 < 47 < 63 < 74

**6** Escribe el número anterior y el posterior en cada caso.

69 ← 7D + 0U → 71

24 ← 2D + 5U → 26

38 ← 3D + 9U → 40

17 ← 1D + 8U → 19

60 ← 6D + 1U → 62

48 ← 4D + 9U → 50

**7** Dictado de números

2 Lee y resuelve.



Si sacamos 6 guacamayos, ¿cuántas aves tropicales quedan en la jaula?

- Escribe los datos y completa.

Hay

Sacamos

- Rodea la operación adecuada y completa.

	2	8	
	-	6	
	2	2	



Quedan  aves en la jaula.



# Monedas y billetes de euro



1 Escribe cuántos céntimos hay.



50 céntimos



70 céntimos



60 céntimos

2 Escribe cuánto dinero hay en cada monedero.



20 euros



75 euros





35 euros

3 Rodea los billetes y las monedas que necesitas.



7 € y 50 céntimos



¿Sabías que...  
 ... tienen el mismo valor que  ?

**4** Rodea las monedas que necesitas.

Compro una goma de 1 euro y un lápiz de 2 euros y 50 céntimos.



**5** Completa y rodea al niño que tiene más dinero ahorrado.



Irene tiene  €.

Mario tiene  €.

**6** Resuelve y rodea las monedas que le devuelven.

Pedro se ha gastado 12 € en el quiosco de los refrescos y ha pagado con:



Le devuelven:



4 Sigue la serie sumando tres.

57    60    63    66    69    72    75    78

5 Señala la cantidad exacta en cada caso.

						
32 €	✓	✓		✓		
8 €			✓	✓	✓	
8 € 50 cts.			✓	✓	✓	✓

6 Lee y marca la oración correcta.

Dos entradas de circo valen 36 euros. Si tengo 1 billete de 20 € y 1 billete de 10 €, ¿tendré bastante dinero?

- Sí, me sobran 6 euros.
- No, me faltan 6 euros.
- No, me devuelven 6 euros.



7 Dictado de números



- TRABAJO OPCIONAL COMPLEMENTARIO página 55 cuaderno

**3** Dibuja las decenas y las unidades.



78



63



74



52



70



39

**4** Escribe los números.

Tengo 6 unidades más que 72. →

Tengo 2 decenas más que 56. →

Tengo 5 unidades más que 67. →

Tengo 1 decena más que 33. →

**5** Rodea en cada caso el número mayor.

40U   

   1U

50U   

20U   

   5D

   2D