


1 Cuenta y escribe los números.



49



42



45



44

Une.

Tiene 3 D y 4 U

Tiene 2 D y 8 U

Tiene 3 D y 6 U

Tiene 2 D y 4 U

24

36

34

28

20 + 8

30 + 4

20 + 4

30 + 6

2 Escribe el signo que corresponda.

15 = 15 | 23 > 17 | 14 < 34 | 27 < 30

Ordena los números de menor a mayor.

¡ Colorea los que tengan 8 unidades!

23 - 19 - 38 - 27 - 18


18 < 19 < 23 < 27 < 38



3 Colorea siguiendo el código. Escribe cuál es el valor de la cifra 4.

La cifra 4 en las decenas → rojo

La cifra 4 en las unidades → azul



4 Coloca, suma y rodea los resultados con 4 decenas.

$35 + 12$

$31 + 8$

$26 + 22$

$32 + 5$

		3	5
		+	1 2
		<hr/>	
		4	7

		3	1
		+	0 8
		<hr/>	
		3	9

		2	6
		+	2 2
		<hr/>	
		4	8

		3	2
		+	0 5
		<hr/>	
		3	7

5 Resta

$$\begin{array}{r} 6 \\ - 2 \\ \hline \end{array}$$

4

$$\begin{array}{r} 3 \\ - 0 \\ \hline \end{array}$$

3

$$\begin{array}{r} 9 \\ - 8 \\ \hline \end{array}$$

1


$$\begin{array}{r} 7 \\ - 1 \\ \hline \end{array}$$

6

6 Suma.

$\begin{array}{r} 6 \\ 2 \\ + 9 \\ \hline 17 \end{array}$	$\begin{array}{r} 3 \\ 6 \\ + 5 \\ \hline 14 \end{array}$	$\begin{array}{r} 5 \\ 4 \\ + 2 \\ \hline 11 \end{array}$	$\begin{array}{r} 2 \\ 1 \\ + 9 \\ \hline 12 \end{array}$	$\begin{array}{r} 5 \\ 3 \\ + 7 \\ \hline 15 \end{array}$	$\begin{array}{r} 1 \\ 3 \\ + 9 \\ \hline 13 \end{array}$
---	---	---	---	---	---

7 Escribe los días que correspondan.

ayer		mañana
miércoles	miércoles	jueves
sábado	domingo	lunes
miércoles	jueves	viernes

8 Ordena y escribe los nombres de los recipientes de menor a mayor capacidad.



1º cuchara, 2º taza, 3º jarra y 4º cubo


9 Lee y resuelve.

Lidia tiene en su casa 6 libros de animales, 4 libros de aventuras y 5 libros de viajes. ¿Cuántos libros tiene Lidia en su casa?

L. de animales

L. de aventuras

L. de viajes



		6		
		4		
		+ 5		
		<hr/>		
		15		

Lidia tiene libros en su casa.

10 Lee y resuelve.

Vamos a decorar el colegio con dibujos de animales. En el corcho hemos colocado 26 dibujos y en la pared 22. ¿Cuántos dibujos hemos colocado en el colegio?

En el corcho

En la pared



		26		
		+ 22		
		<hr/>		
		48		

Hemos colocado dibujos.