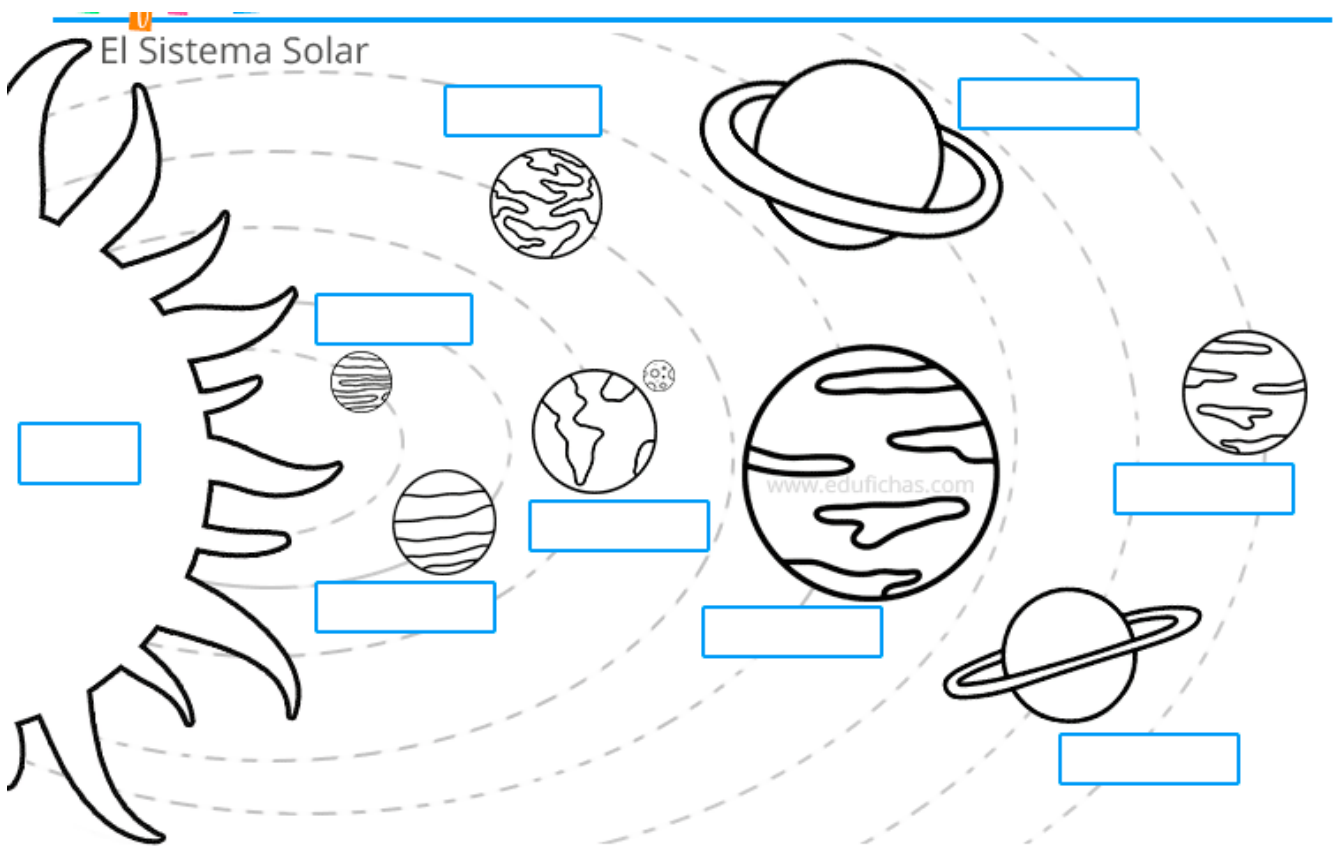


SOCIALES – 5º- SEMANA 13

¡Hola a todos! En esta última semana de tarea, vamos a repasar un poco algunos de los contenidos aprendidos a lo largo del curso. Espero que os acordéis sin problema, pues son contenidos muy básicos que hemos trabajado. De todas formas, esta semana no tenéis que mandar tareas para revisión, sino que las comprobáis cuando se cuelgan las soluciones.

Con un abrazo virtual, me despido de todos vosotros, que sepáis que estoy muy contenta con vuestro trabajo. También transmitidle mi agradecimiento a vuestras familias por todo el interés y la ayuda prestada ¡Disfrutad todo lo que podáis del verano! ¡Ánimo! Y espero veros a todos en septiembre.

1 Completa el siguiente dibujo colocando el nombre del astro en el espacio blanco:



2 Observa la imagen e indica qué dos movimientos de la Tierra se representan y en qué consisten y las consecuencias que tienen:

.....

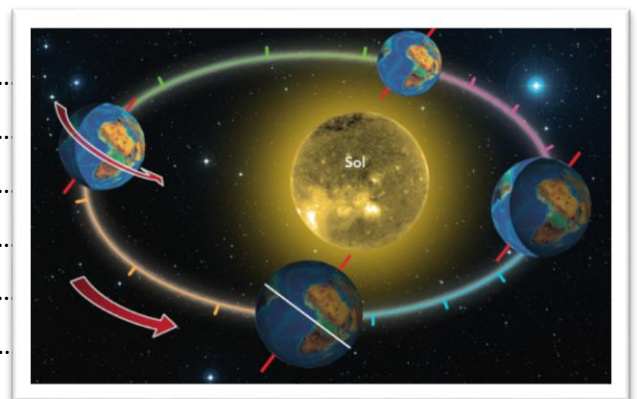
.....

.....

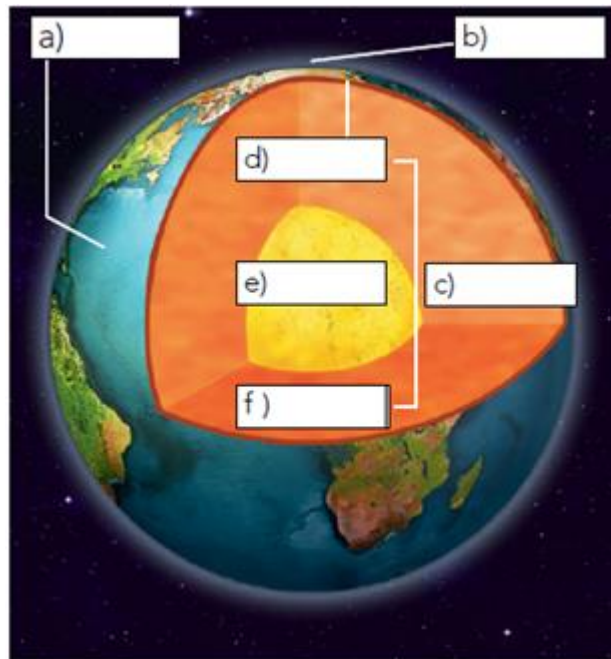
.....

.....

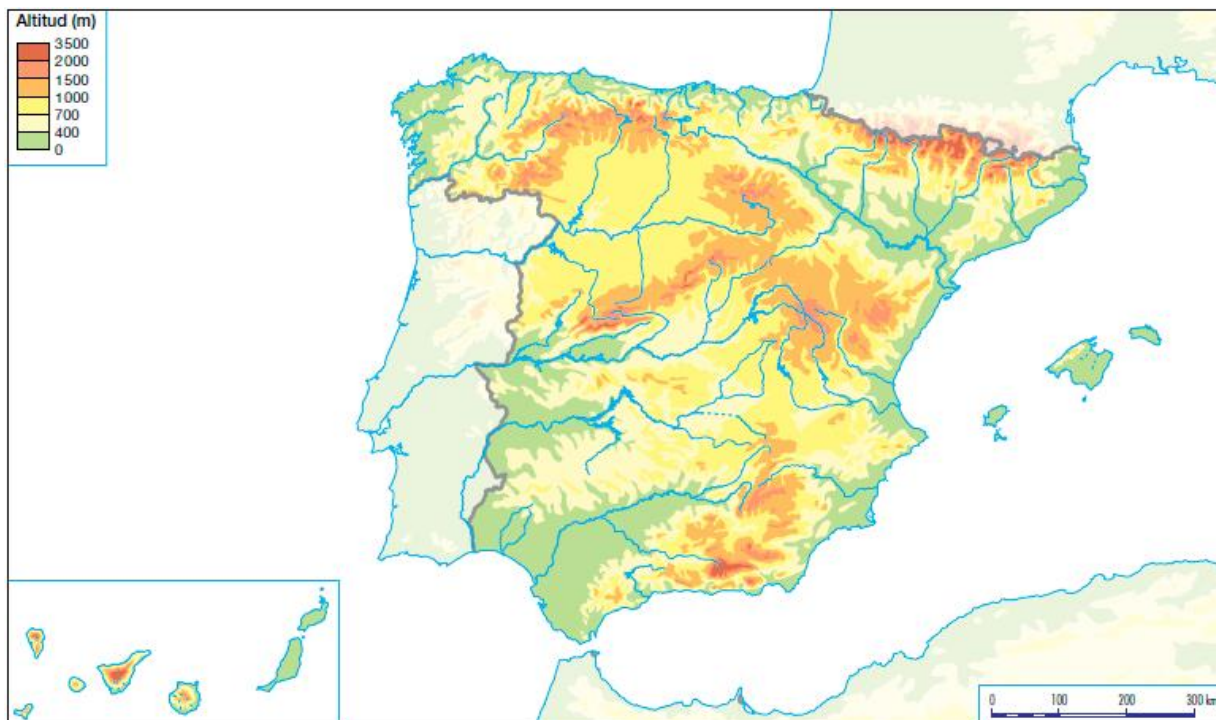
.....



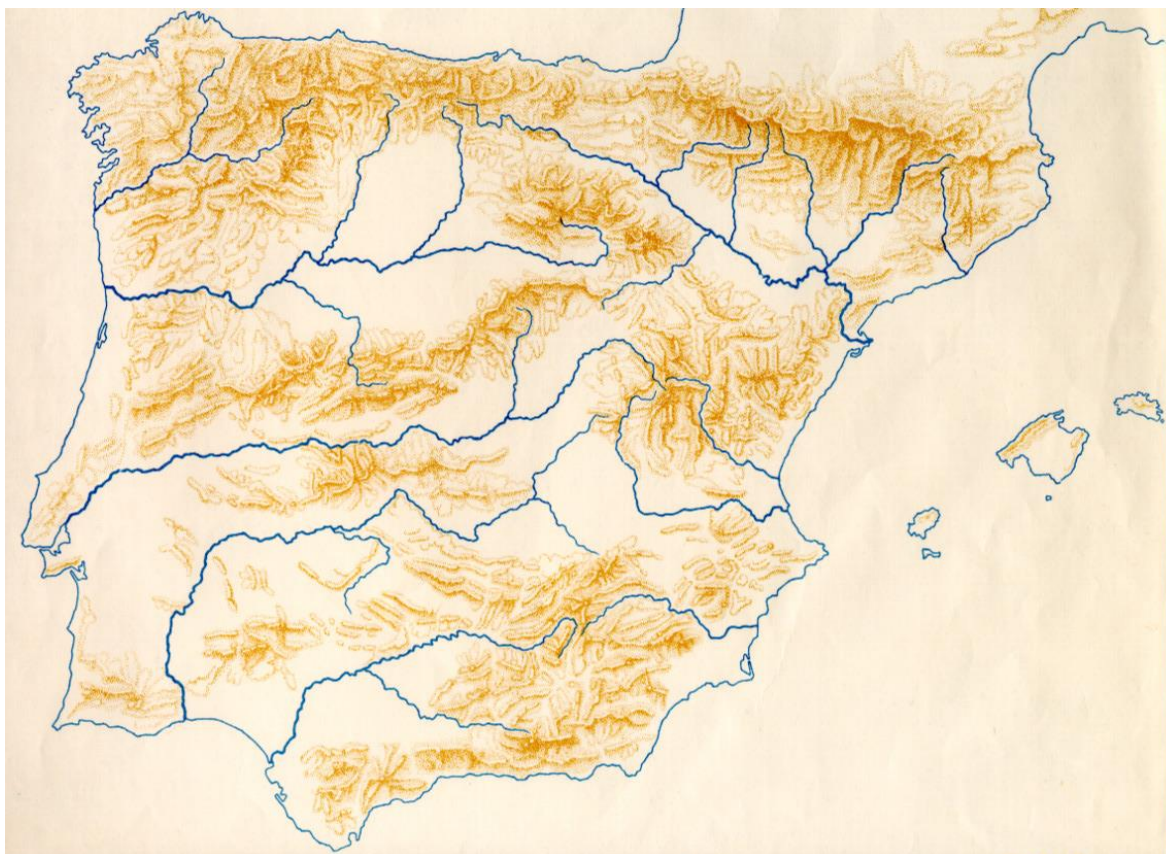
3 Completa la siguiente figura relacionada con las partes de la Tierra:



4 En el siguiente mapa indica los siguientes sistemas montañosos: los Pirineos, Sierra Morena, montes de León, cordillera Costero-Catalana, cordillera Penibética, sistema Central, sistema Ibérico, macizo Galaico- Leonés, pico del Teide, Mulhacén y pico Aneto.



5 Señala en el mapa los principales ríos y con diferente color las vertientes hidrográficas de España.



6 ¿Qué significa que la población española tenga un crecimiento natural positivo y un crecimiento real negativo?

.....

.....

.....

7 Relaciona los diferentes tipos de empresa con el sector económico que corresponda:

- | | |
|----------------------|--|
| a) Sector primario | 1) Dedicadas a la transformación de bienes, como las industriales y de la construcción. |
| b) Sector secundario | 2) Obtienen los recursos a partir de la naturaleza, como las agrícolas, pesqueras o ganaderas. |
| c) Sector terciario | 3) Empresas que se dedican a la oferta de servicios o al comercio. |

8 Señala en el mapa las comunidades autónomas, las provincias que las componen y las ciudades autónomas de España.



9 Completa utilizando las palabras apropiadas:

a) El pueblo germánico que se asentó en Hispania después de ayudar a los romanos fue el

b) Los musulmanes creen en un único dios, al que llaman

c) Los cristianos que vivían entre musulmanes eran llamados Y los musulmanes que se quedaron a vivir entre cristianos eran llamados

d) El período de la Reconquista empezó el año y terminó en el año Por tanto, duró siglos.

10 Escribe tres acontecimientos importantes en la Edad Moderna de España que recuerdes.

.....
.....