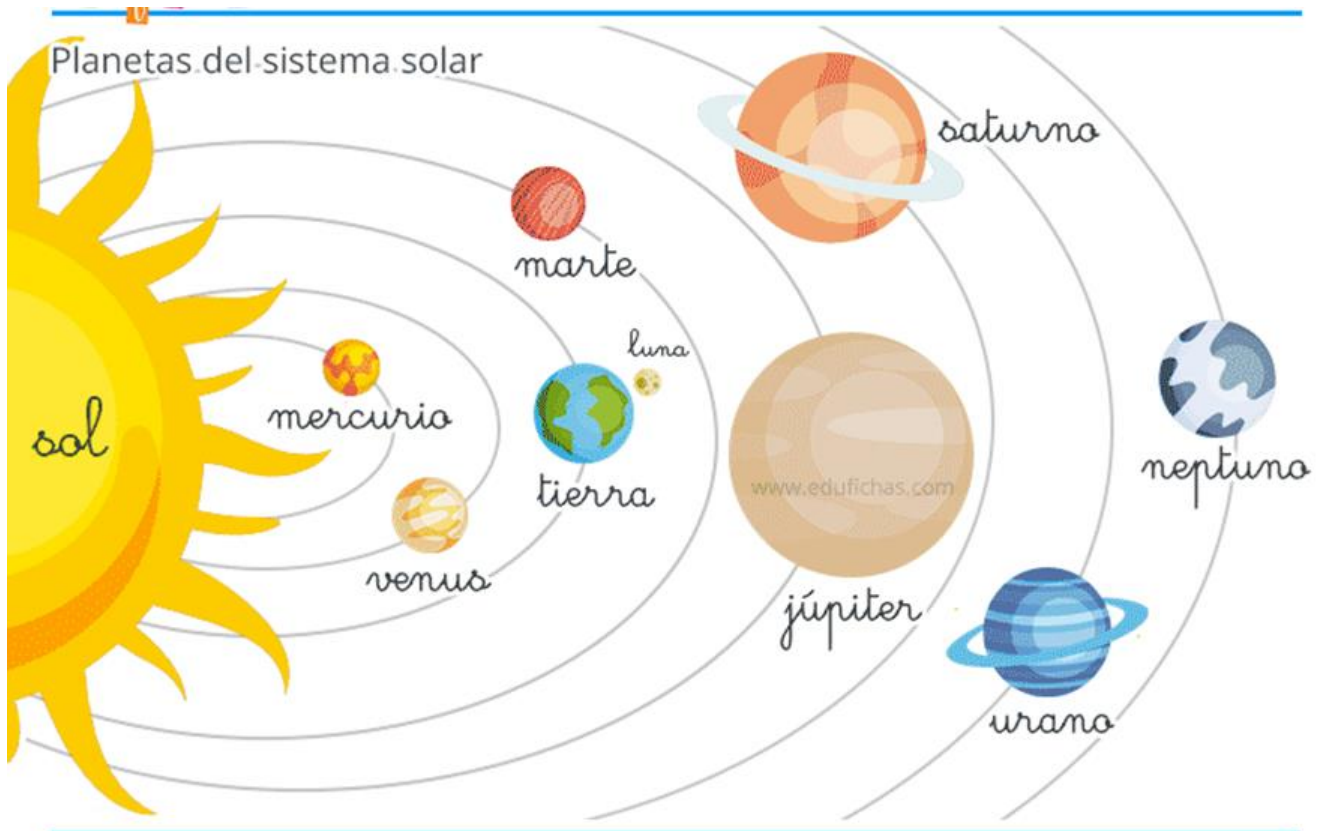


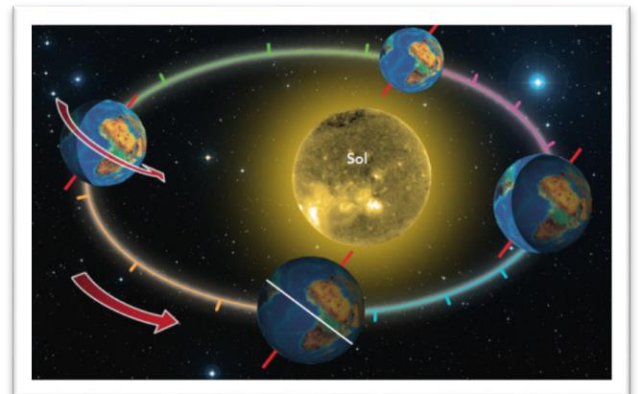
SOCIALES – 5º- SEMANA 13- SOLUCIONES

1 Completa el siguiente dibujo colocando el nombre del astro en el espacio blanco:

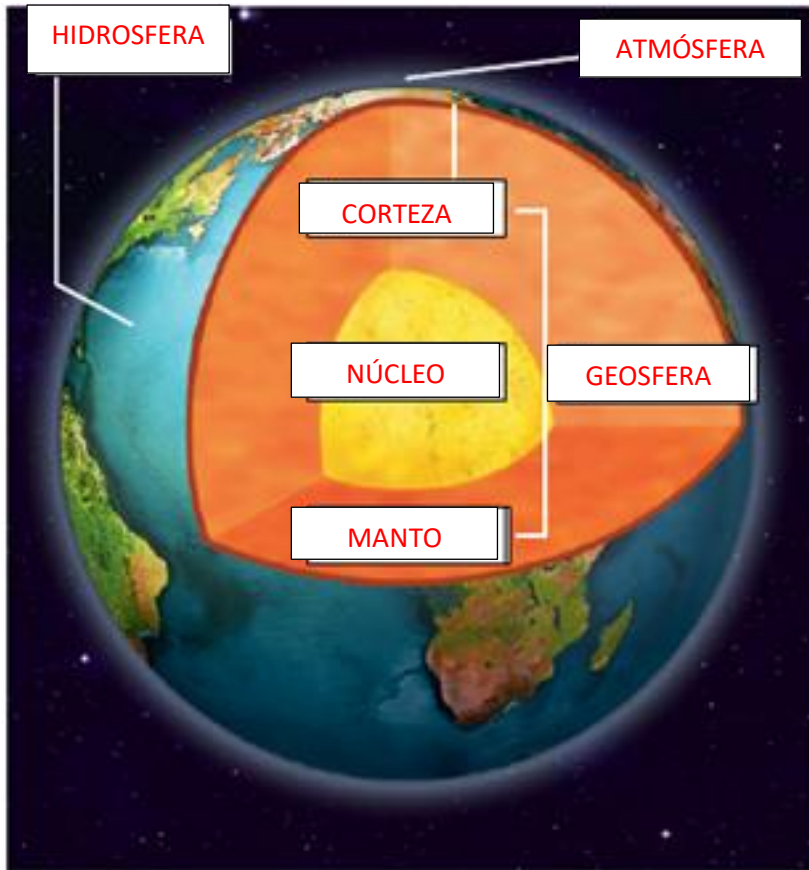


2 Observa la imagen e indica qué dos movimientos de la Tierra se representan y en qué consisten y las consecuencias que tienen:

Primero, el movimiento de rotación: la Tierra gira sobre sí misma, alrededor de un eje imaginario que pasa por los polos (al tiempo que tarda en realizarlo lo llamamos día). A la vez realiza el movimiento de traslación: la Tierra se mueve alrededor del Sol, siguiendo una trayectoria que llamamos órbita, cada vuelta dura 365 días aproximadamente (es a lo que llamamos año). El movimiento de rotación provoca el día y la noche. El de traslación las estaciones del año.



3 Completa la siguiente figura relacionada con las partes de la Tierra:



4 En el siguiente mapa indica los siguientes sistemas montañosos: los Pirineos, Sierra Morena, montes de León, cordillera Costero-Catalana, cordillera Penibética, sistema Central, sistema Ibérico, macizo Galaico- Leonés, pico del Teide, Mulhacén y pico Aneto.



5 Señala en el mapa los principales ríos y con diferente color las vertientes hidrográficas de España.



6 ¿Qué significa que la población española tenga un crecimiento natural positivo y un crecimiento real negativo?

El crecimiento natural de la población española es positivo e indica que el número de nacidos en nuestro país es superior al de fallecidos. El crecimiento real negativo nos indica que la población española disminuyó en su conjunto, ya que el crecimiento natural se vio afectado por el saldo negativo de la inmigración, el número de inmigrantes llegados a nuestro país fue menor que el número de emigrantes que salieron.

7 Relaciona los diferentes tipos de empresa con el sector económico que corresponda:

- a) Sector primario ————— 1) Dedicadas a la transformación de bienes, como las industriales y de la construcción.
- b) Sector secundario ————— 2) Obtienen los recursos a partir de la naturaleza, como las agrícolas, pesqueras o ganaderas.
- c) Sector terciario ————— 3) Empresas que se dedican a la oferta de servicios o al comercio.

8 Señala en el mapa las comunidades autónomas, las provincias que las componen y las ciudades autónomas de España.



9 Completa utilizando las palabras apropiadas:

- El pueblo germánico que se asentó en Hispania después de ayudar a los romanos fue **el visigodo**
- Los musulmanes creen en un único dios, al que llaman **Alá**
- Los cristianos que vivían entre musulmanes eran llamados **mozárabes**. Y los musulmanes que se quedaron a vivir entre cristianos eran llamados **mudéjares**
- El período de la Reconquista empezó el año **722** y terminó en el año **1492**. Por tanto, duró **8** siglos.

10 Escribe tres acontecimientos importantes en la Edad Moderna de España que recuerdes.

- **Aparición de las monarquías autoritarias.**
- **Fue la época de los viajes y de las exploraciones geográficas a otros continentes (Descubrimiento de América)**
- **La ciencia, la literatura y el arte experimentaron un importante desarrollo S. XVII (Siglo de Oro)**